

**Tiết 17,18,19,20 Bài 7. BẢN ĐỒ
CHÍNH TRỊ CHÂU Á. CÁC KHU
VỰC CỦA CHÂU Á (4 tiết)**



NỘI DUNG BÀI HỌC

1 ▶ **Bản đồ chính trị châu Á.**

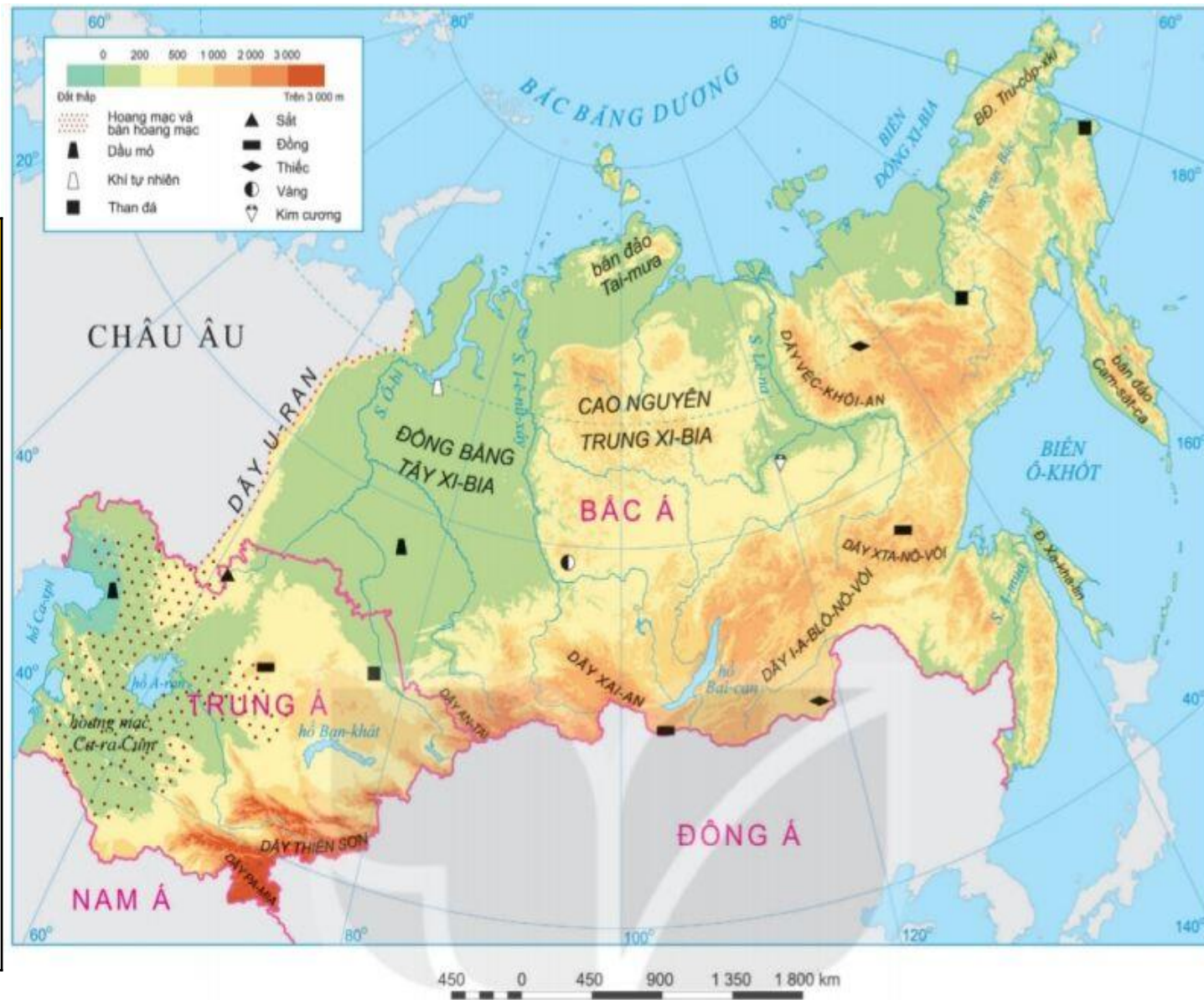
2 ▶ **Các khu vực thuộc châu Á**

a. Khu vực Bắc Á.

Cặp đôi

Phiếu học tập số 2

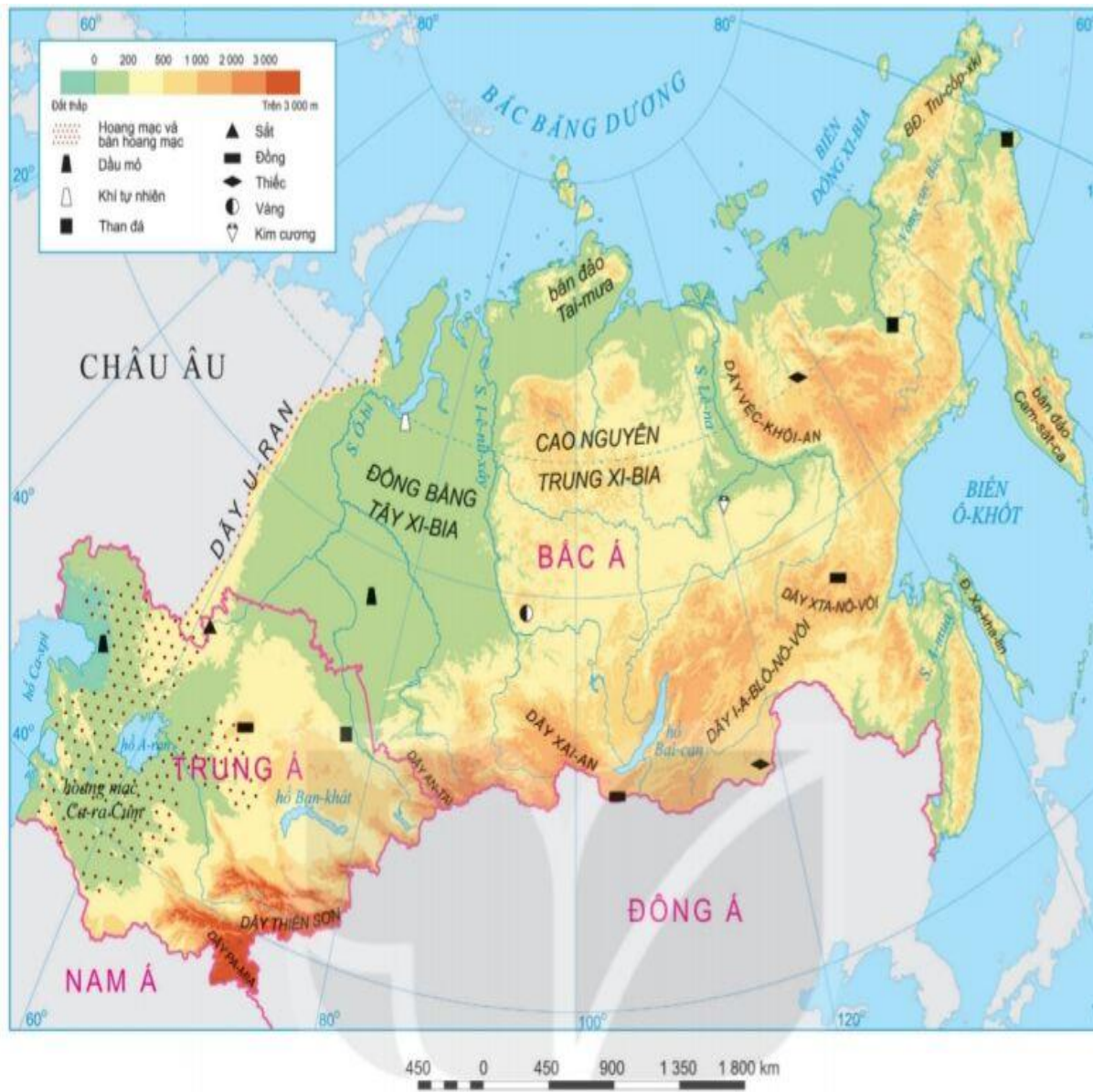
- Vị trí khu vực Bắc Á trên lược đồ?
- Nêu đặc điểm tự nhiên nổi bật của Bắc Á (địa hình, khí hậu, sông ngòi, khoáng sản, cảnh quan)?



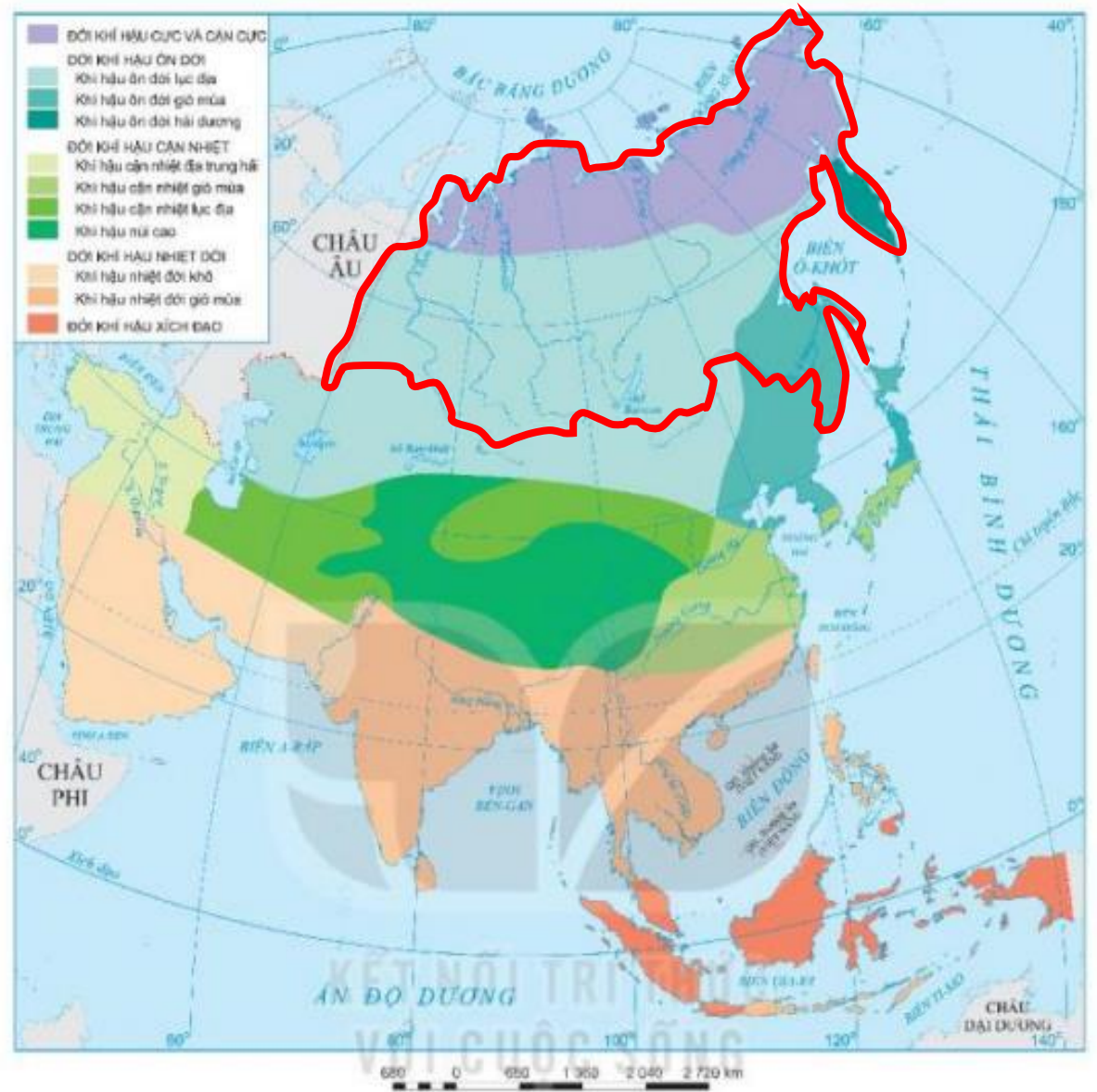
Hình 2. Bản đồ tự nhiên khu vực Bắc Á và Trung Á



Hình 2. Bản đồ tự nhiên khu vực Bắc Á và Trung Á



Hình 2. Bản đồ tự nhiên khu vực Bắc Á và Trung Á



Hình 2. Bản đồ các đới và kiểu khí hậu ở châu Á



Phiếu học tập số 3

- Vị trí khu vực Trung Á trên lược đồ?
- Nêu đặc điểm tự nhiên nổi bật của Trung Á (địa hình, khí hậu, sông ngòi, khoáng sản, cảnh quan)?



Hình 2. Bản đồ tự nhiên khu vực Bắc Á và Trung Á



Hình 2. Bản đồ tự nhiên khu vực Bắc Á và Trung Á





Phiếu học tập số 3

- Vị trí khu vực Tây Á trên lược đồ?
- Nêu đặc điểm tự nhiên nổi bật của Tây Á (địa hình, khí hậu, sông ngòi, khoáng sản, cảnh quan)?



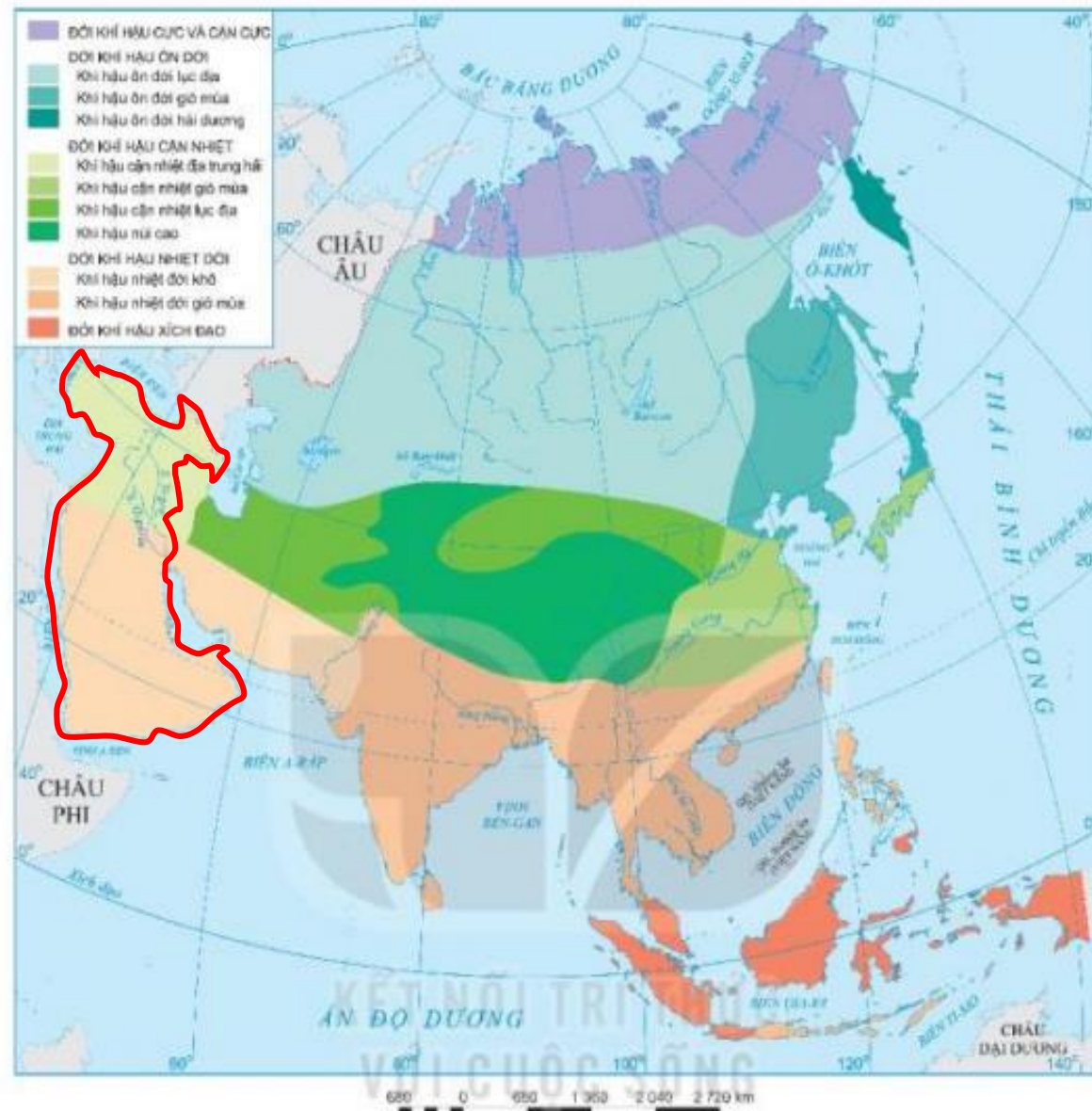
Hình 3. Bản đồ tự nhiên khu vực Tây Nam Á



Hình 3. Bản đồ tự nhiên khu vực Tây Nam Á



Hình 3. Bản đồ tự nhiên khu vực Tây Nam Á



Hình 2. Bản đồ các đới và kiểu khí hậu ở châu Á



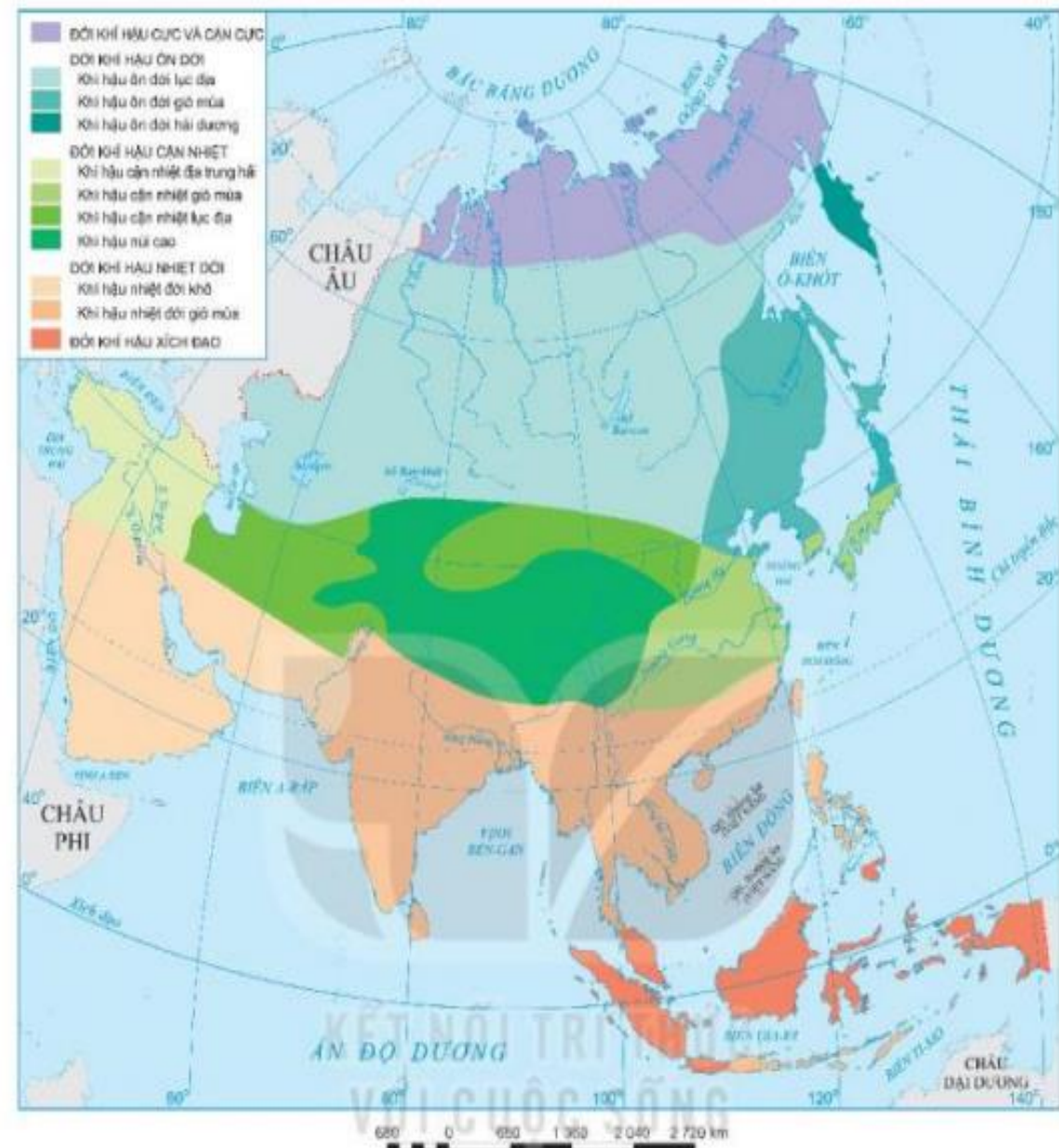
Hình 3. Bản đồ tự nhiên khu vực Tây Nam Á



Hình 1. Bản đồ chính trị châu Á



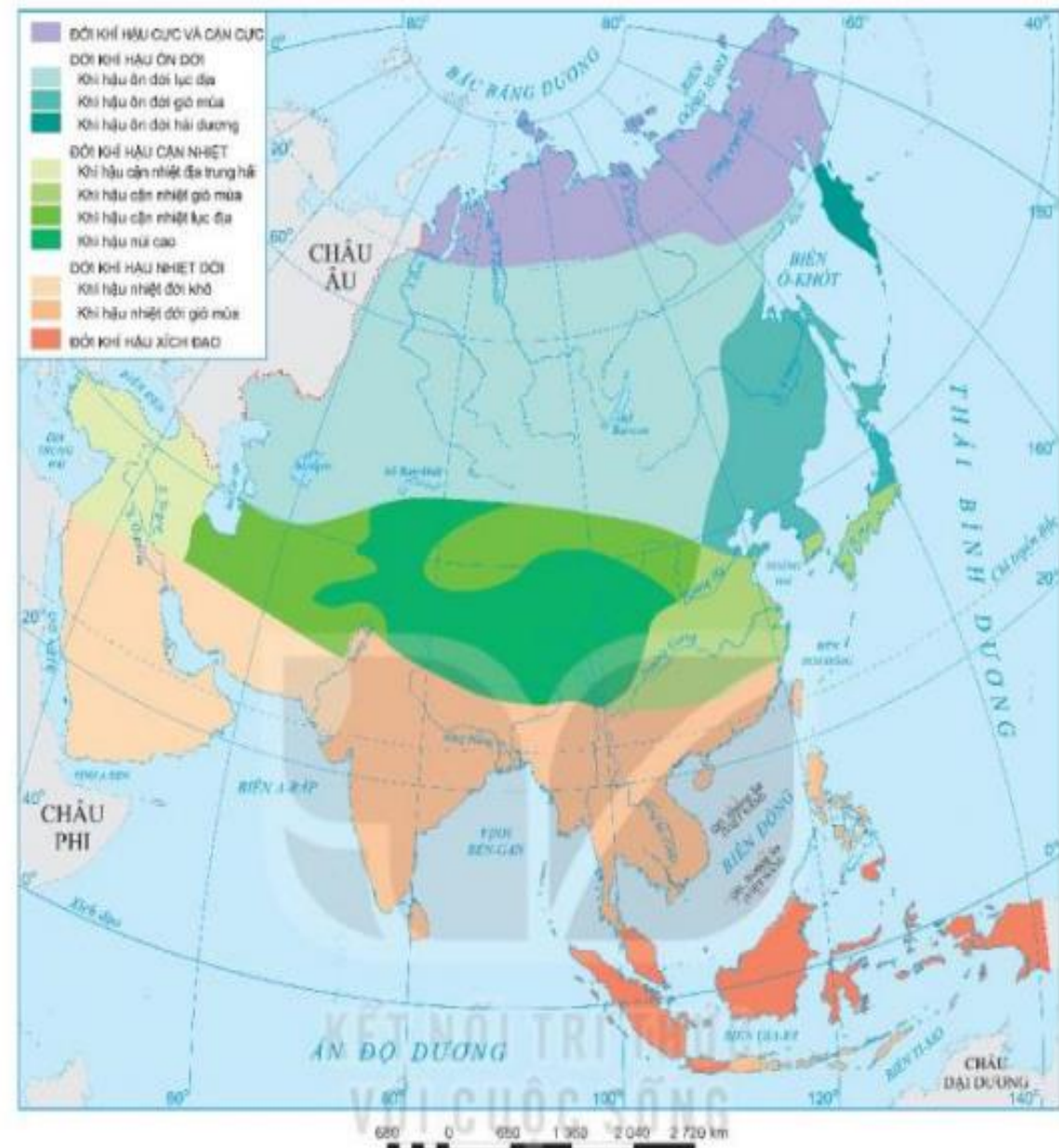
Hình 4. Bản đồ tự nhiên khu vực Nam Á



Hình 2. Bản đồ các đới và kiểu khí hậu ở châu Á



Hình 4. Bản đồ tự nhiên khu vực Nam Á



Hình 2. Bản đồ các đới và kiểu khí hậu ở châu Á

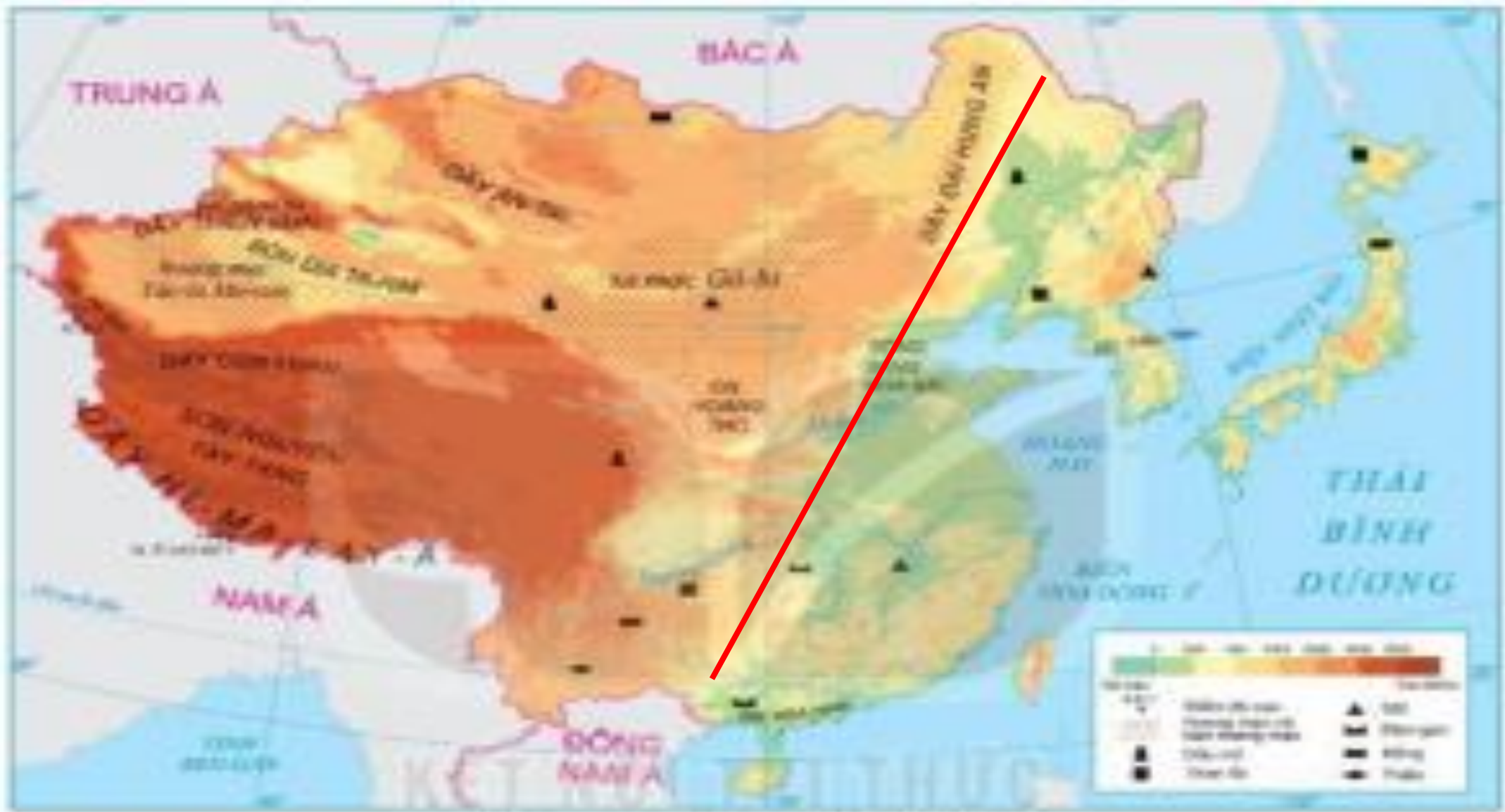




Hình 1. Bản đồ chính trị châu Á



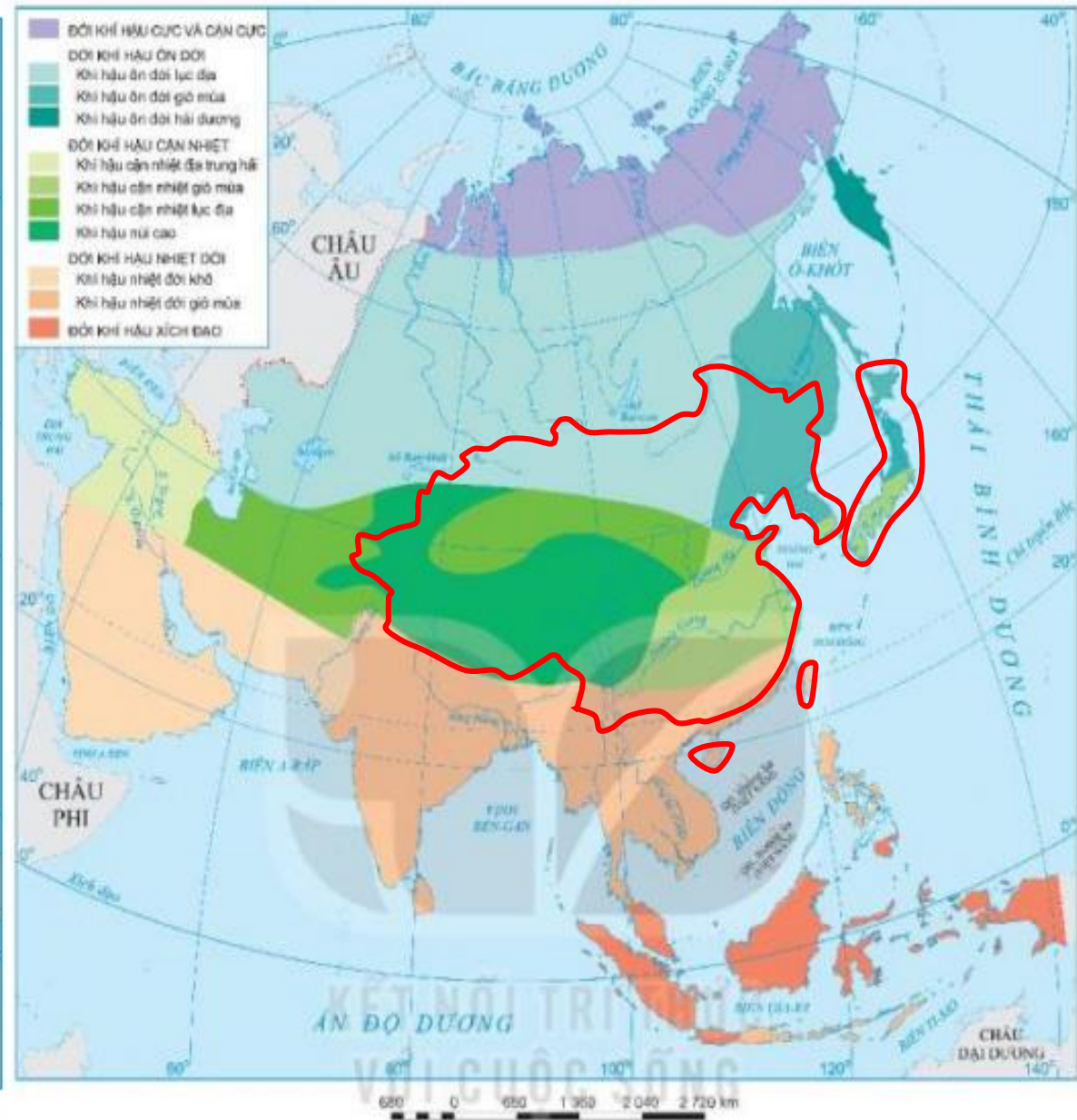
Hình 1. Bản đồ chính trị châu Á



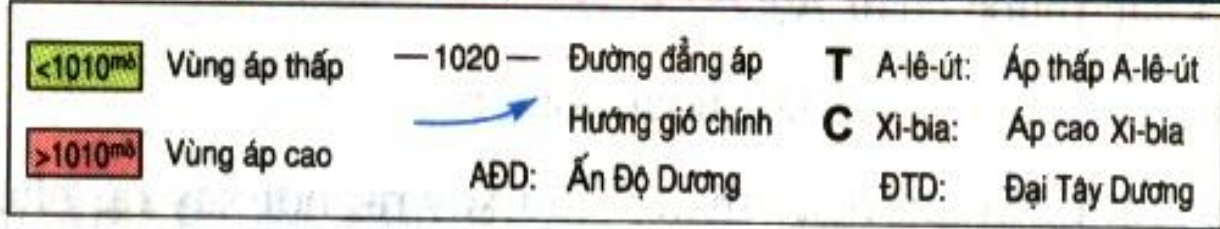
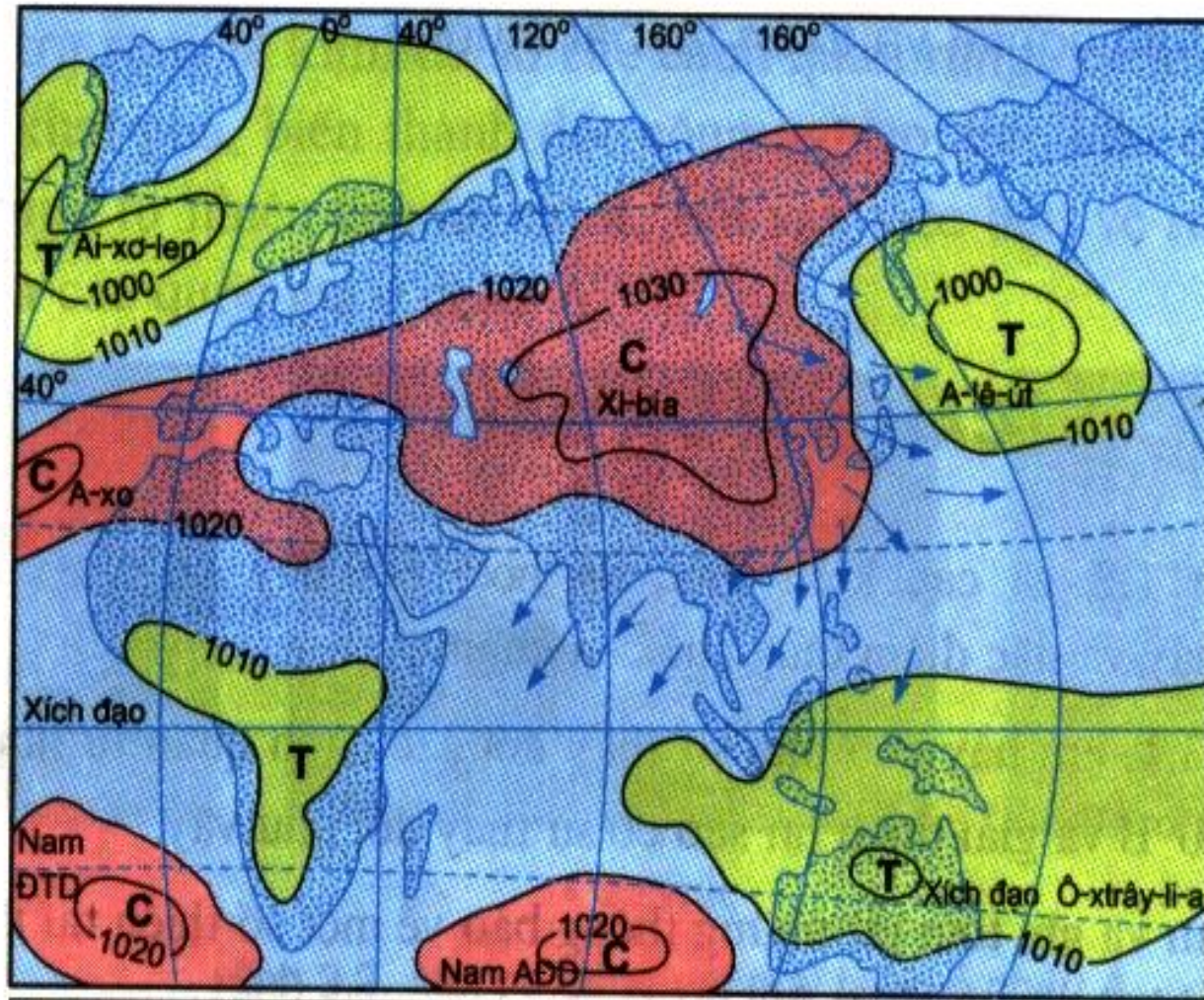
Vũ Ngọc Dũng
 Hình 5. Bản đồ tự nhiên khu vực Đông Á.



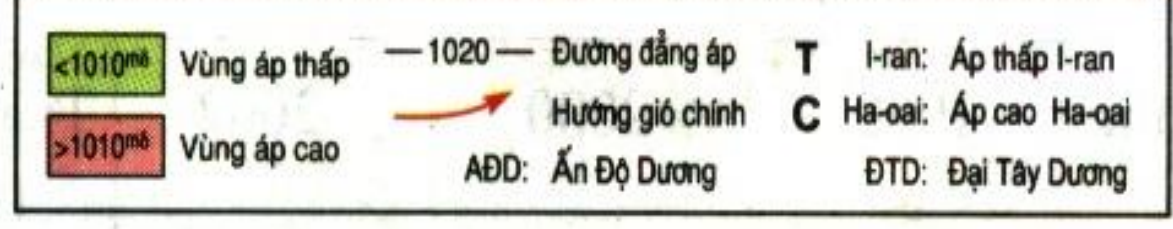
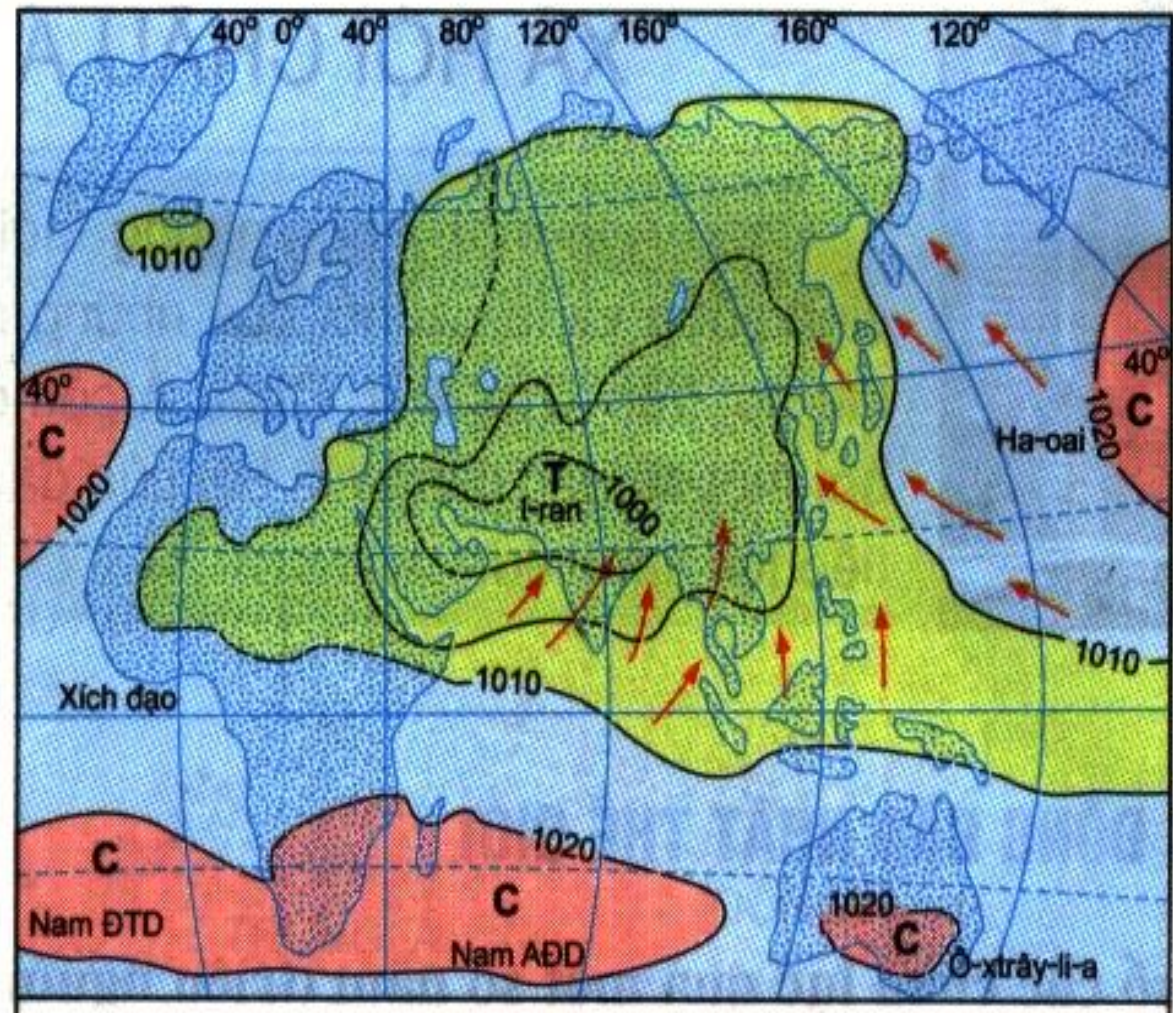
Hình 1. Bản đồ chính trị châu Á



Hình 2. Bản đồ các đới và kiểu khí hậu ở châu Á



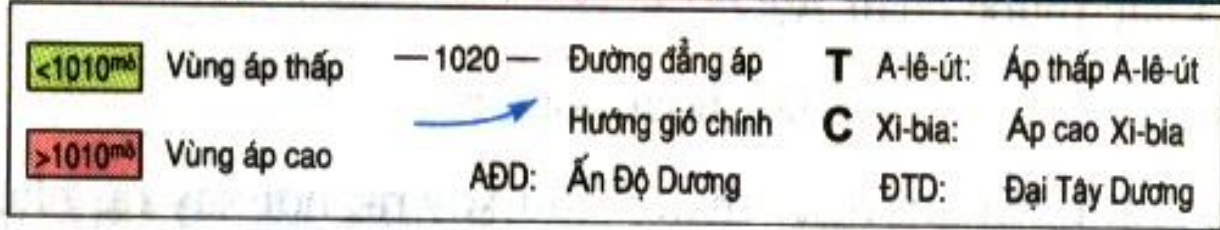
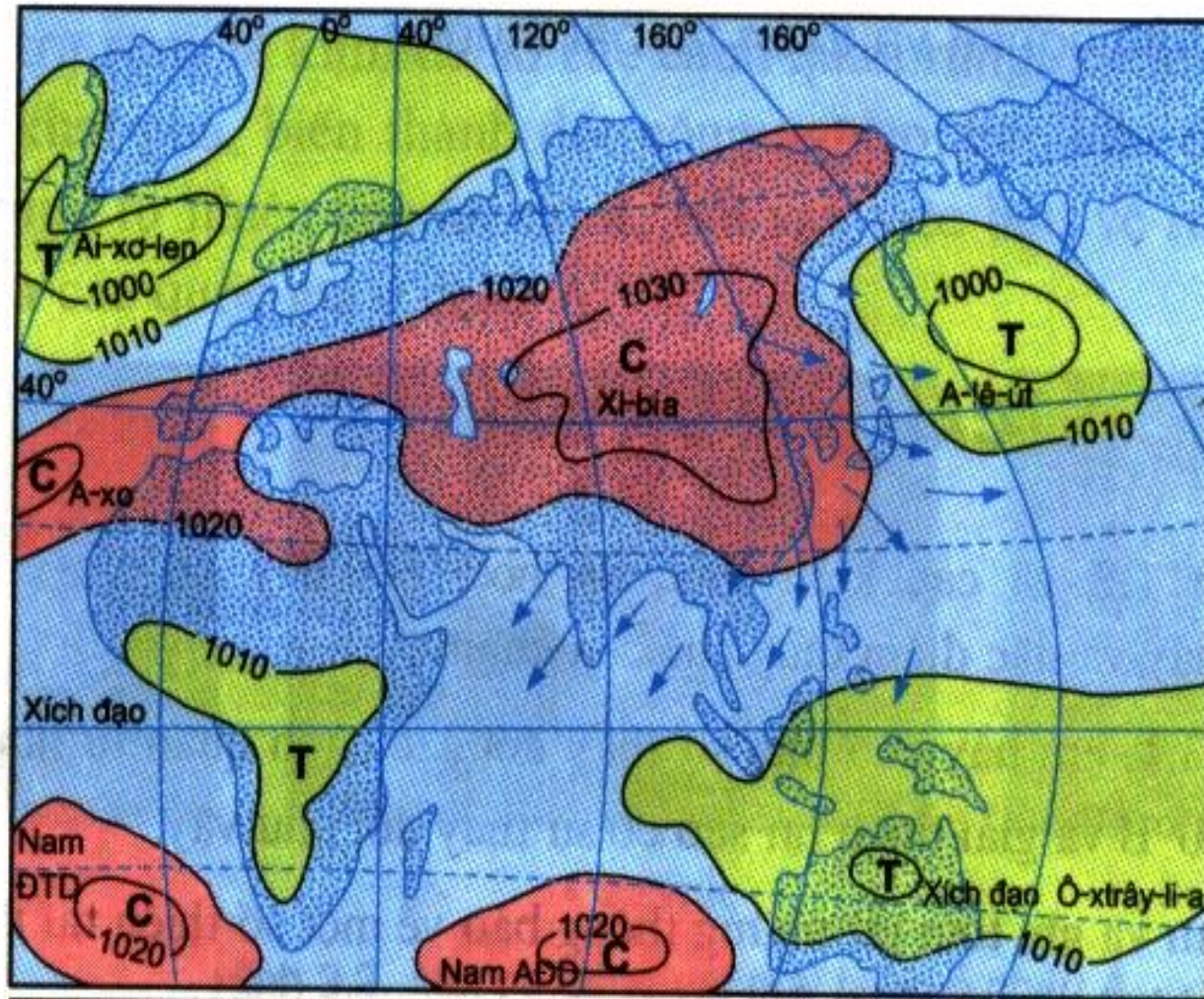
Gió mùa mùa đông



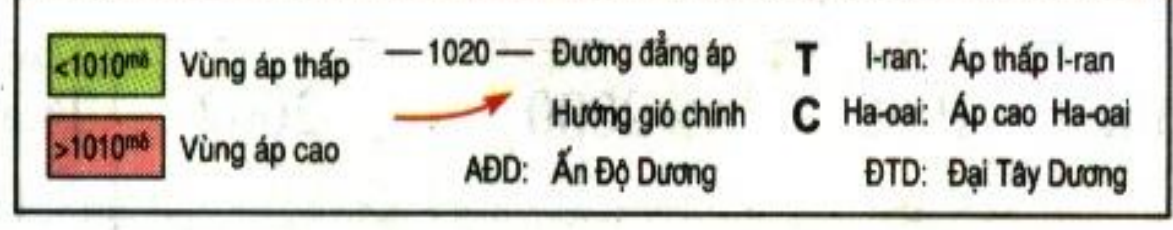
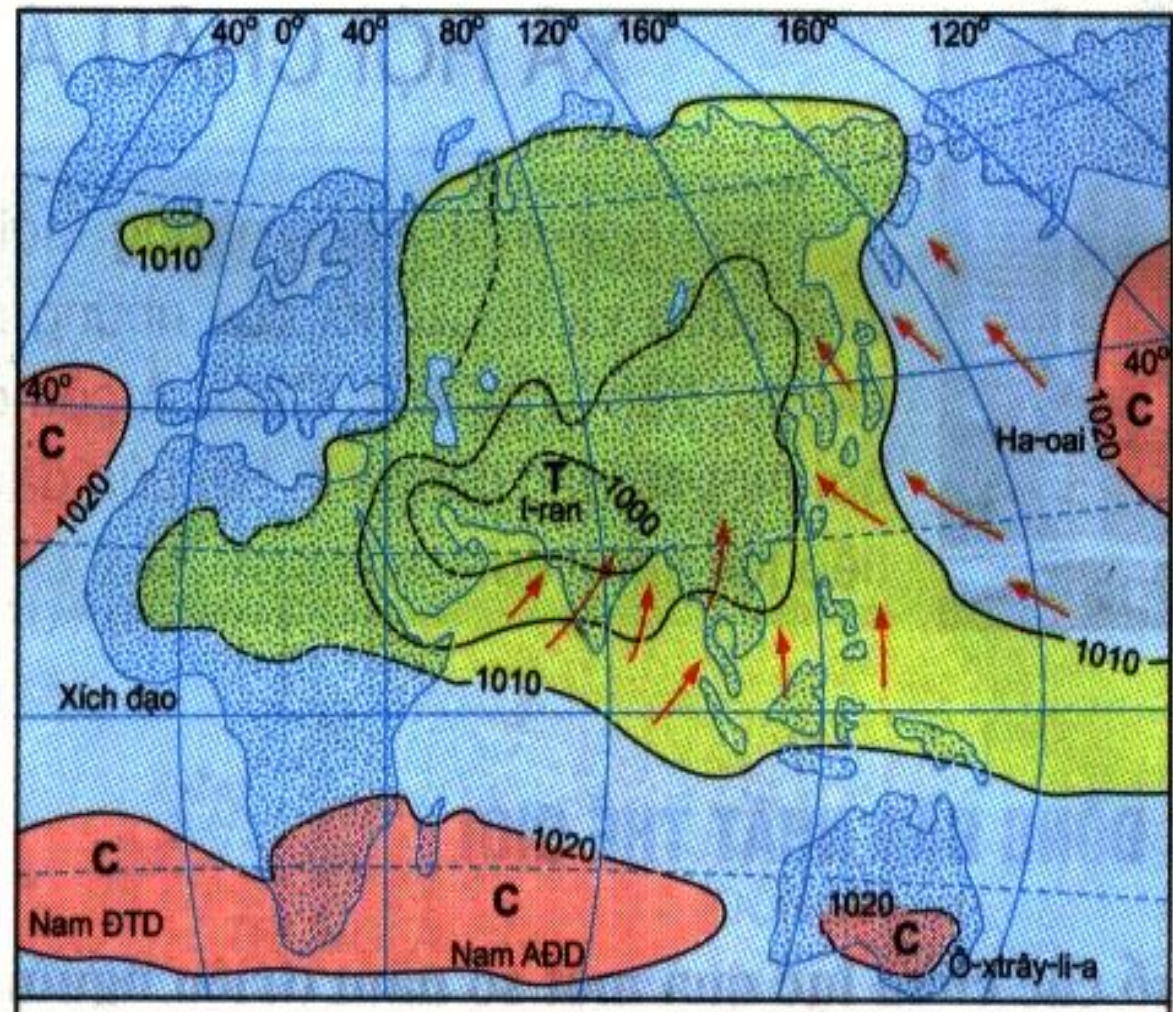
Gió mùa mùa hạ



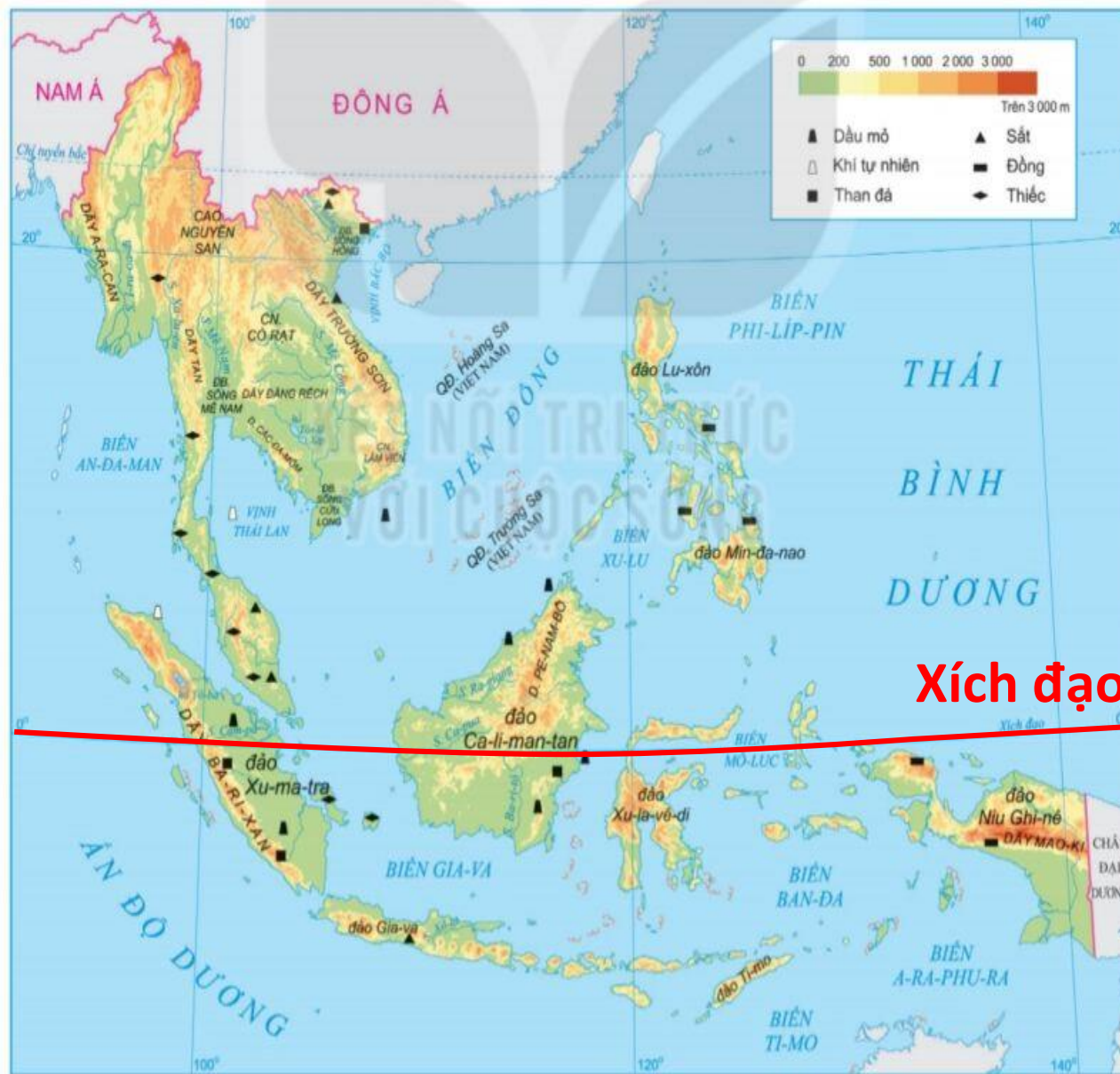
Hình 7. Bản đồ tự nhiên khu vực Đông Nam Á



Gió mùa mùa đông



Gió mùa mùa hạ



Xích đạo

350 0 350 700 1050 1400 km

Hình 7. Bản đồ tự nhiên khu vực Đông Nam Á

CÂU HỎI TRÒ CHƠI BINGO

STT	Câu hỏi	Đáp án
1	Châu Á chia thành mấy khu vực?	6
2	Mông Cổ thuộc khu vực nào của châu Á?	Đông Á
3	Ca - ta thuộc khu vực nào của châu Á?	Tây Á
4	Kể tên 3 bộ phận của Bắc Á	Đồng bằng Tây Xi-bia, cao nguyên Trung Xi-bia, miền núi Đông Xi-bia
5	Trung Á tiếp giáp mấy đại dương?	Không tiếp giáp với đại dương
6	Cảnh quan tự nhiên chủ yếu của khu vực Trung Á là gì?	Thảo nguyên, hoang mạc và bán hoang mạc
7	Ô-bi là hệ thống sông lớn của khu vực nào?	Bắc Á
8	Tây Á nằm trong miền khí hậu nào?	Khô hạn và nóng

CÂU HỎI TRÒ CHƠI BINGO

STT	Câu hỏi	Đáp án
11	Loại rừng nào phổ biến ở Bắc Á	Rừng lá kim
12	Những dạng địa hình chủ yếu của khu vực Tây Á là	Núi và sơn nguyên
13	Loại rừng nào chủ yếu ở Đông Nam Á?	Rừng mưa nhiệt đới
14	Sơn nguyên Đê-can thuộc khu vực nào?	Nam Á
15	Khu vực Trung Á có khí hậu gì?	Ôn đới lục địa
16	Sông ngòi khu vực Tây Á có đặc điểm gì?	Kém phát triển, nguồn nước rất hiếm
17	Thảm thực vật chủ yếu ở khu vực Nam Á là gì?	Rừng nhiệt đới gió mùa và xa van
18	Khu vực Đông Nam Á gồm mấy bộ phận	2 (phần đất liền và phần hải đảo)

Phiếu học tập số 1

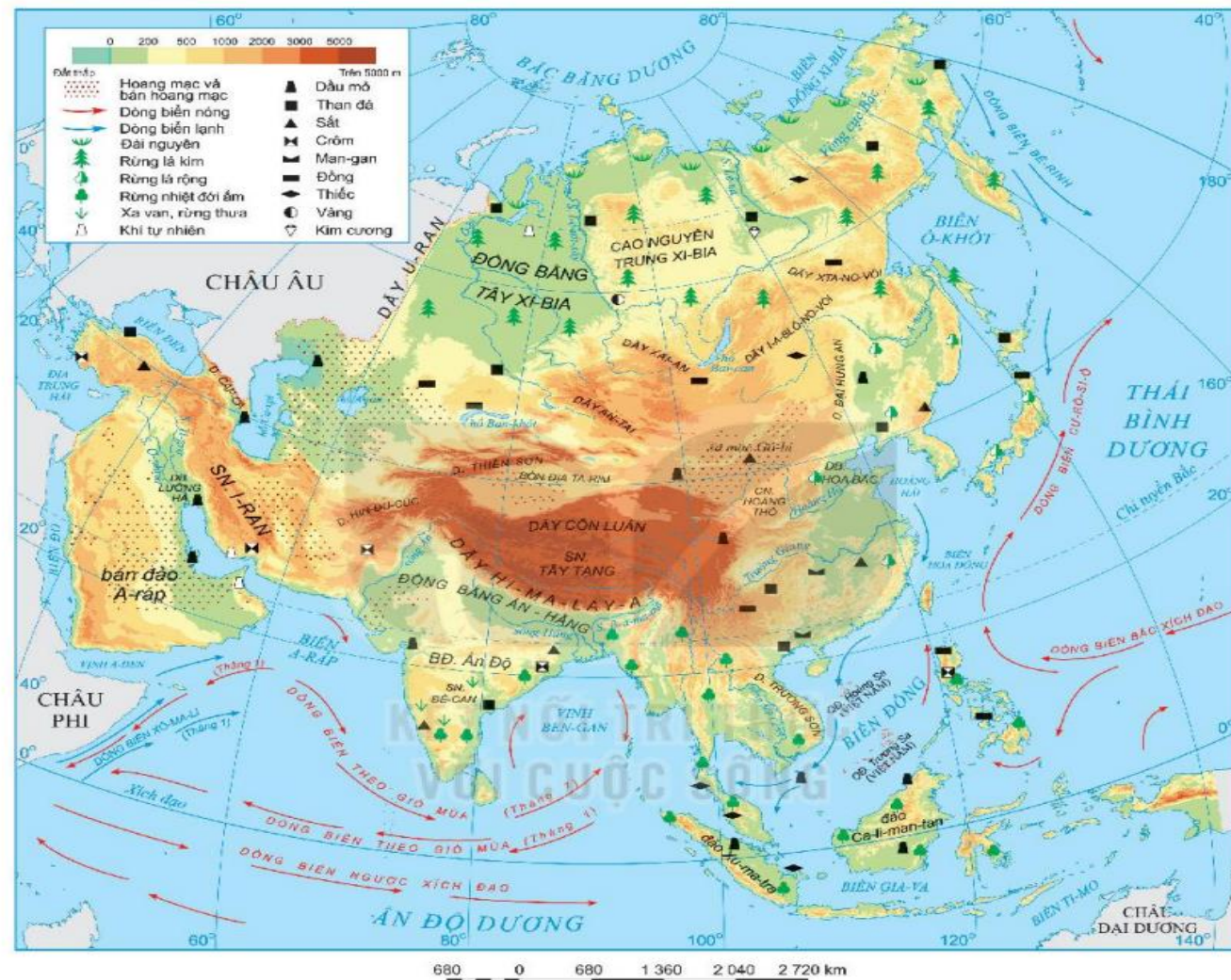
Đặc điểm	Trả lời
Vị trí, giới hạn	- Bộ phận của lục địa Á-Âu. Trải dài từ vùng xích đạo đến vùng cực Bắc.
Tiếp giáp	- Hai châu lục: Á, Phi. - Ba đại dương: Bắc Băng Dương, Thái Bình Dương và Ấn Độ Dương.
Diện tích	- 44,4 triệu km ² (kể cả các đảo)
Hình dạng, kích thước	- Dạng hình khối. Kích thước rộng lớn. + Chiều Bắc – Nam kéo dài: 8500 km, + Chiều Đông – tây: nơi rộng nhất 9200 km.

Hoạt động nhóm (4 nhóm). Quan sát bản đồ H1/trang 110 sgk Hoàn thành phiếu học tập sau:

5:00

Phiếu học tập số 2

- Châu Á có các dạng địa hình nào?
- Nêu đặc điểm và phân bố các dạng địa hình đó?
- Nhận xét sự phân bố các dạng địa hình ở châu Á?



Hình 1. Bản đồ tự nhiên châu Á



Dãy Hi-ma-lay-a



Đỉnh Everest cao 8848m



Dãy Hoàng Liên Sơn



Đỉnh Fansipan cao 3143m



NGƯỜI PHỤ NỮ VIỆT NAM ĐẦU TIÊN "HẠ GỤC" EVEREST

Công ty chuyên tổ chức leo núi Seven Summit Treks ở Nepal xác nhận Nguyễn Thị Thanh Nhà (Celine Nha Nguyen) đã leo lên đến "nóc nhà thế giới" sáng 16/5/2022, trở thành người phụ nữ đầu tiên của Việt Nam đạt thành tích này.



NGUYỄN THỊ THANH NHÀ

Năm sinh: Thuộc thế hệ 8X
Nghề nghiệp: Luật sư
Nơi sinh sống: Thành phố Hồ Chí Minh
Thành tích: Chinh phục đỉnh Vinson cao nhất châu Nam Cực (4.892 m) ngày 3/1/2022

ĐỈNH EVEREST

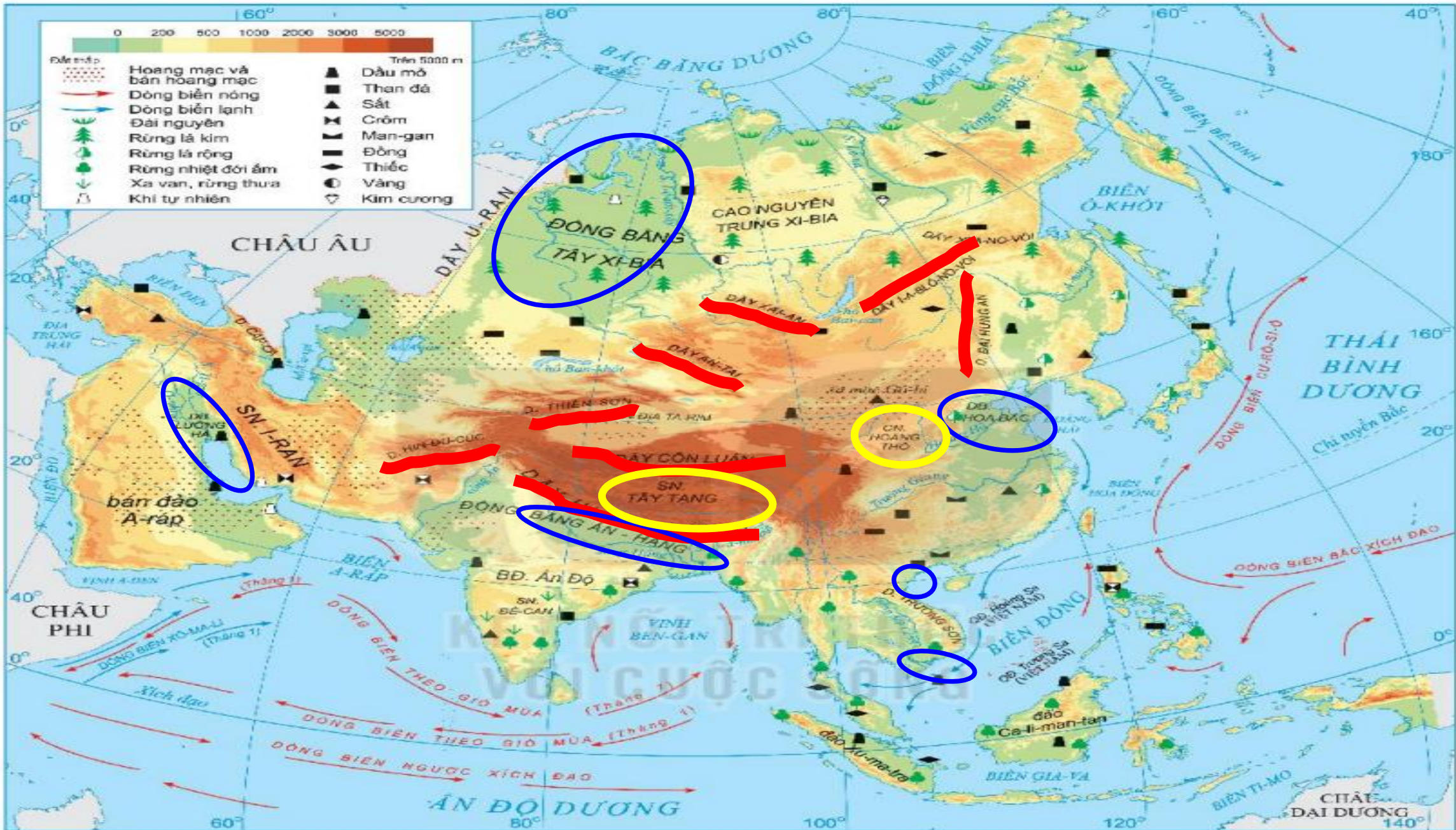
-  Thuộc dãy Himalaya, nằm giữa biên giới Nepal và Tây Tạng (Trung Quốc)
-  Cao 8.894 m
-  Có môi trường khắc nghiệt như: dễ bị trượt ngã, lạnh rét của băng tuyết, gió bão, mức oxy rất thấp
-  Hấp dẫn nhiều người, đặc biệt là những người leo núi chuyên nghiệp

<https://infographics.vn>

© **TTXVN**
Vietnam News Agency

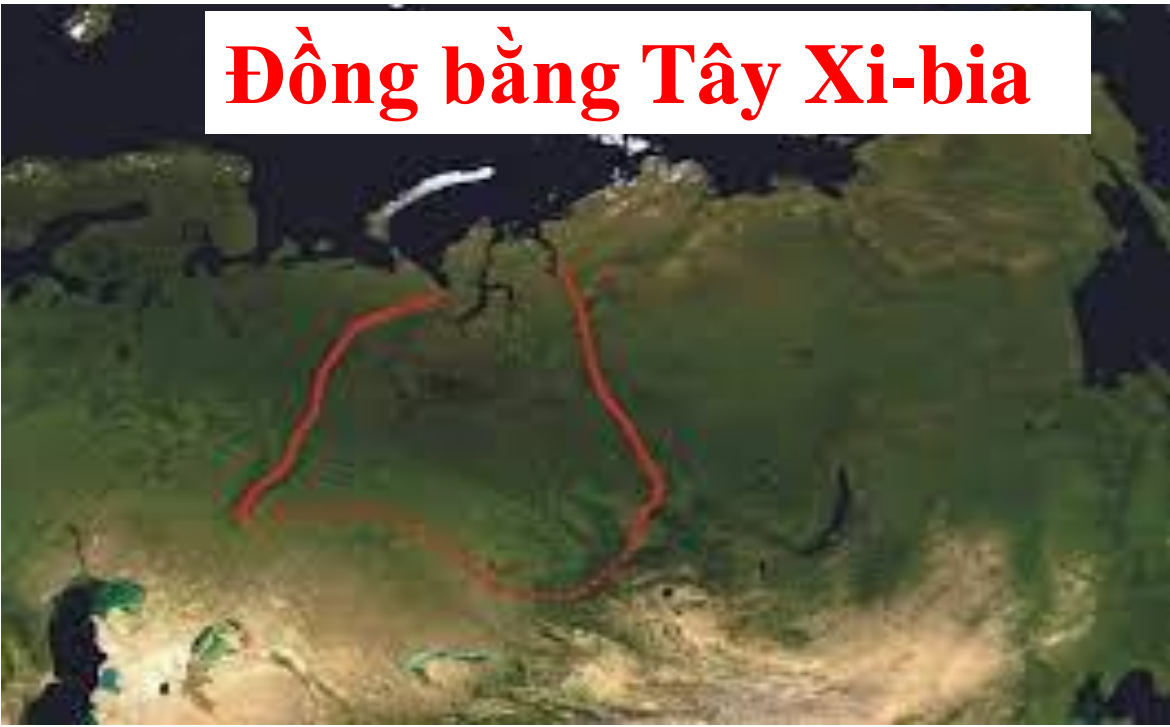
Sơn nguyên Tây Tạng





680 0 680 1 360 2 040 2 720 km

Đồng bằng Tây Xi-bia



Đồng bằng sông Hồng

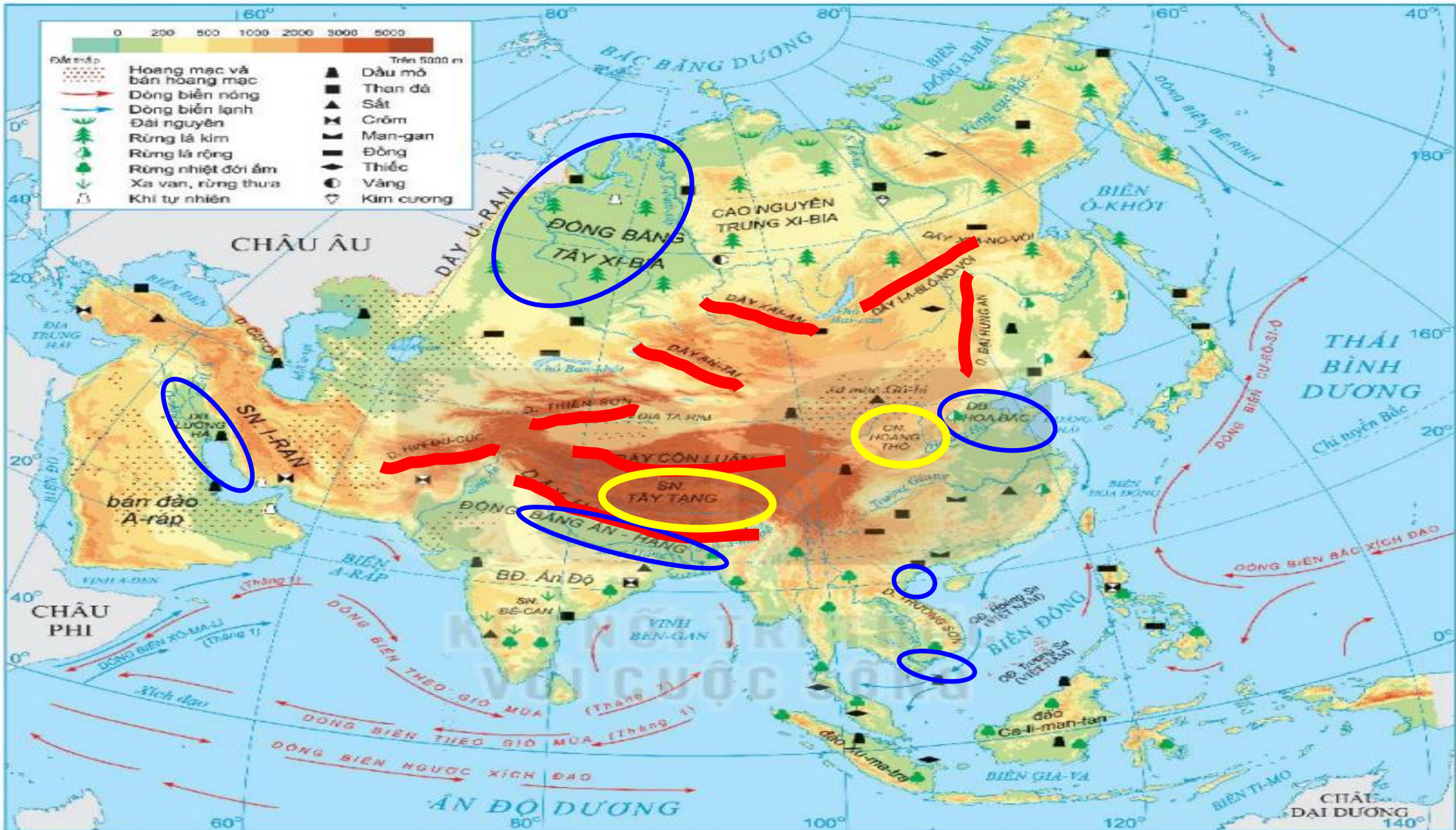


Hạ lưu sông Hằng



Đồng bằng sông Cửu Long






680 0 680 1 360 2 040 2 720 km

Hoạt động nhóm(4 nhóm).

Với địa hình đa dạng và nhiều núi cao sẽ có những thuận lợi và khó khăn gì đối với đời sống và sản xuất cư dân châu Á ?





Trò chơi

Bức hình bí ẩn



Hai đội:
A và B



Lần lượt
lật mở 6
mảnh ghép



Trả lời
câu hỏi



Thời gian:
10 giây
(mỗi câu)



Nhiều điểm
→ chiến
thắng

Lưu ý: Các đội chơi có thể giành quyền trả lời “bức hình bí ẩn”
đằng sau các mảnh ghép. Trả lời đúng được 30 điểm.

Số 1

Số 2

Số 3

Số 4

Số 5

Số 6

Hình 2. Bản đồ các đới và kiểu khí hậu ở châu Á. →

BỨC HÌNH BÍ ẨN

0:10

Câu 1

Dãy núi cao, đồ sộ nhất châu Á là dãy núi nào?

Đáp án

Dãy Hi-ma-lay-a



BƯỚC HÌNH BÍ ẨN


0:10

Câu 2

Đại dương nào không tiếp giáp với châu Á?

Đáp án

Đại Tây Dương



BƯỚC HÌNH BÍ ẨN

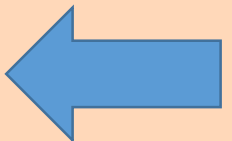
0:10

Câu 3

Núi, sơn nguyên cao, đồ sộ nhất châu Á tập trung chủ yếu ở đâu?

Đáp án

Trung tâm châu Á



BƯỚC HÌNH BÍ ẨN

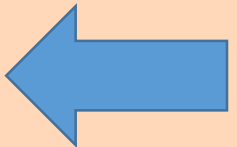
0:10

Câu 4

Đảo nào lớn nhất châu Á?

Đáp án

Đảo Ca-li-man-tan



BƯỚC HÌNH BÍ ẨN

0:10

Câu 5

Sơn nguyên đồ sộ nhất
châu Á là

Đáp án

Sơn nguyên Tây Tạng



BƯỚC HÌNH BÍ ẨN


0:10

Câu 6

Dãy núi nào là ranh giới tự nhiên ngăn cách châu Á với châu Âu?

Đáp án

Dãy U-ran



DẶN DÒ

1

Xem lại nội dung đã học

2

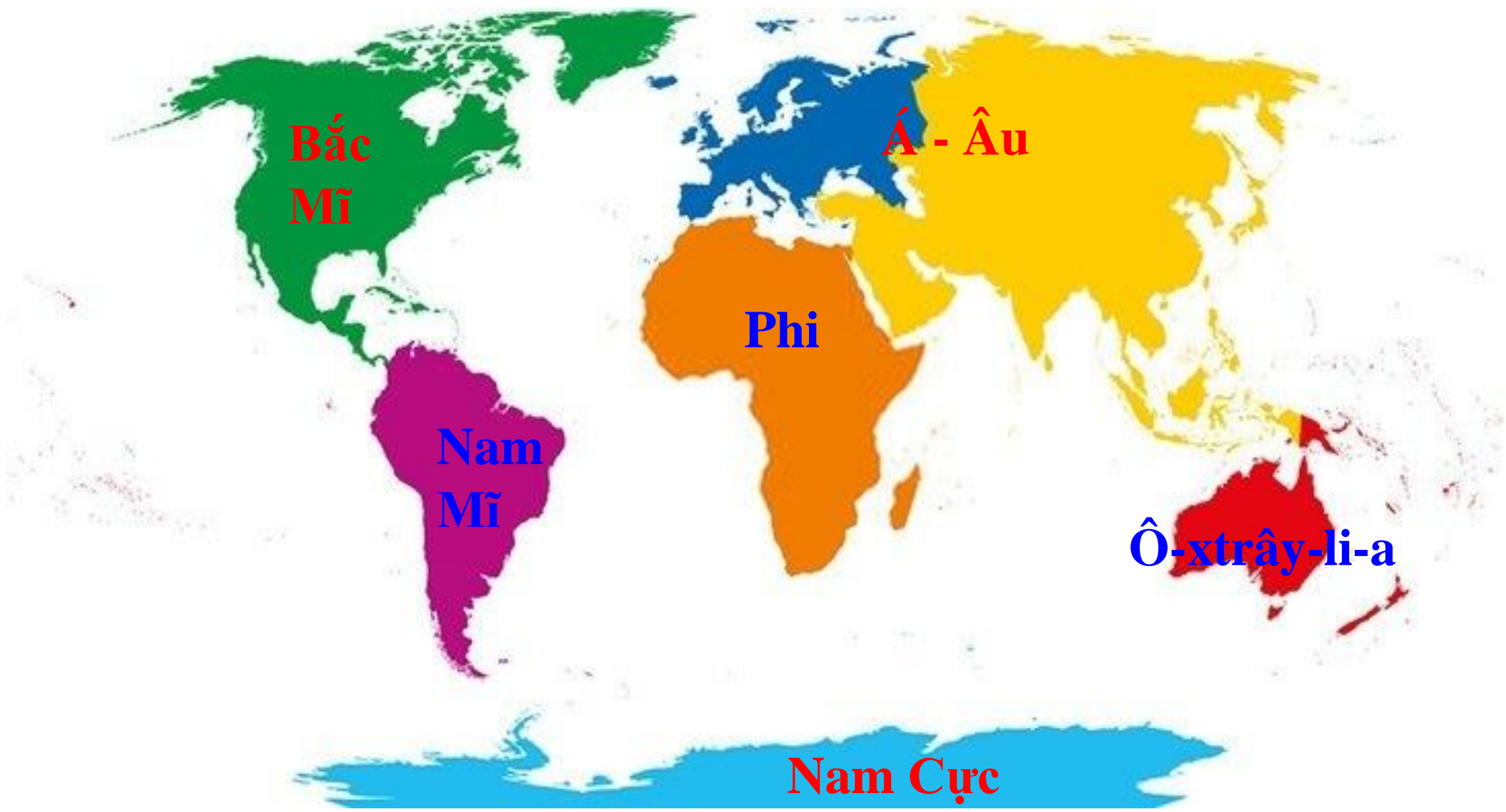
Về nhà chuẩn bị phần “khí hậu và khoáng sản” của châu Á.

3

Làm bài tập trong BT địa lí 7.

TIẾT HỌC KẾT THÚC

Thank
you!



**Bắc
Mĩ**

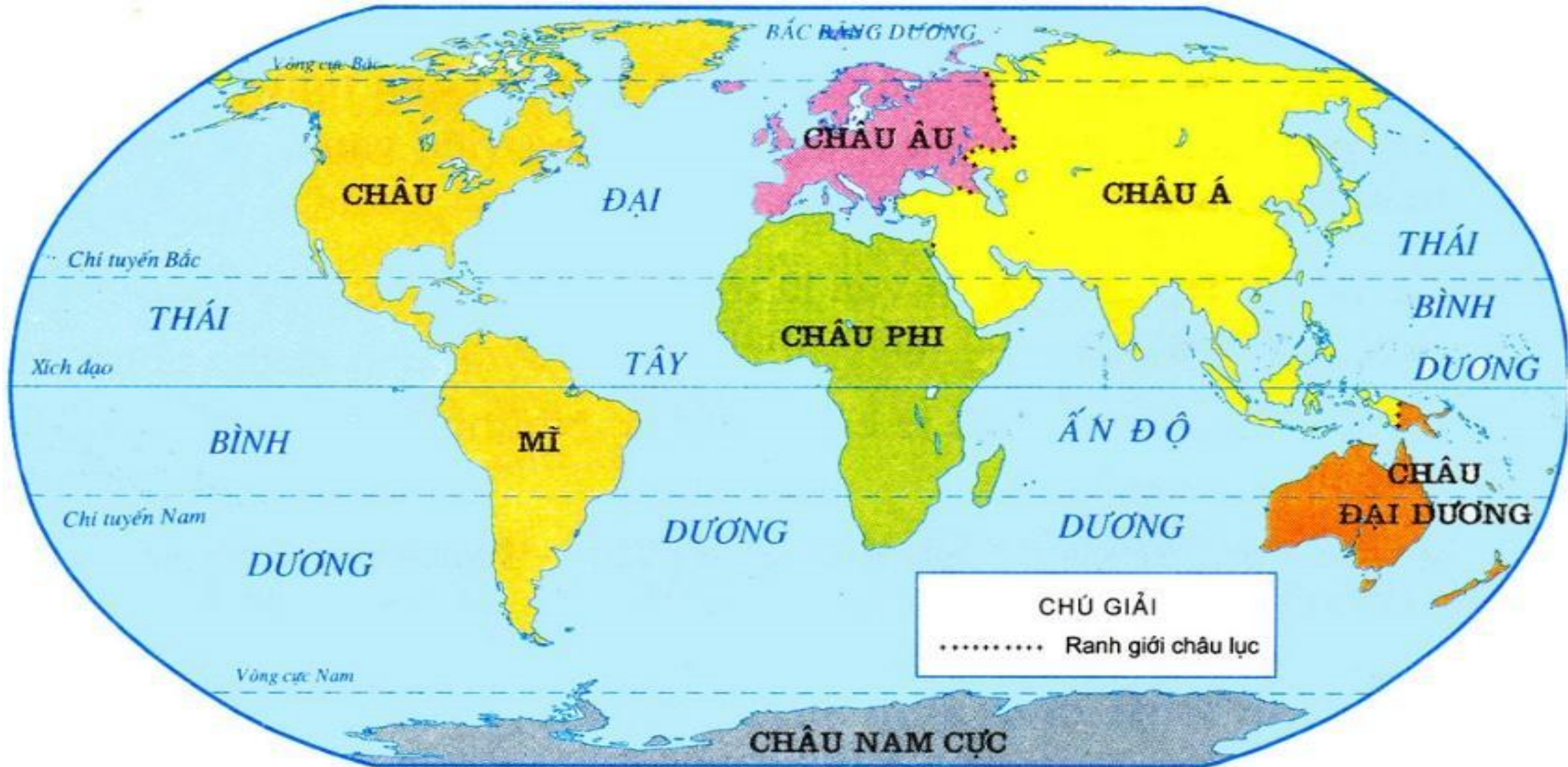
Á - Âu

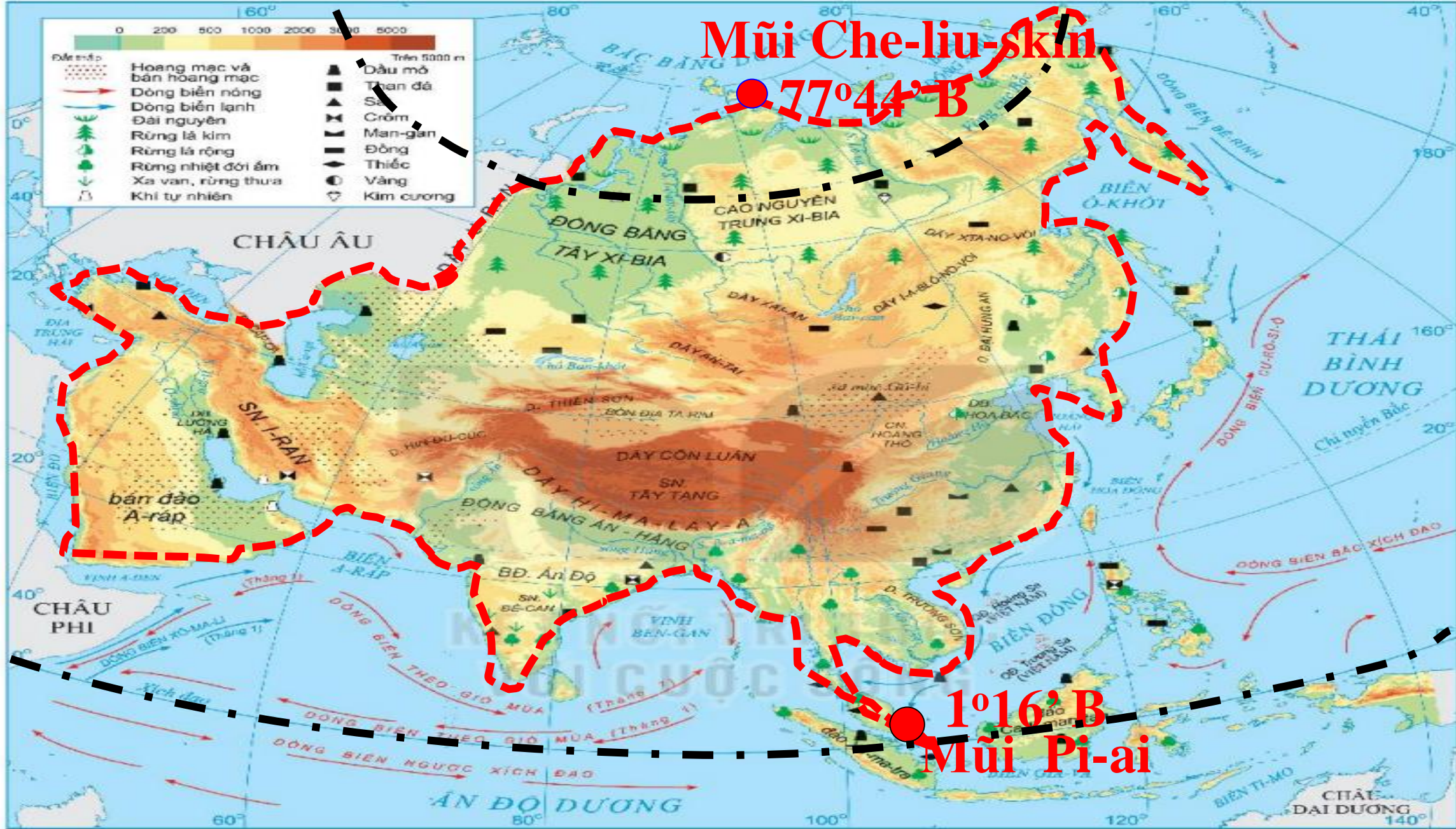
Phi

**Nam
Mĩ**

Ô-xtrây-li-a

Nam Cực





Hình 1. Bản đồ tự nhiên châu Á

Bắc Băng Dương

Châu Âu

Thái Bình Dương

Châu Phi

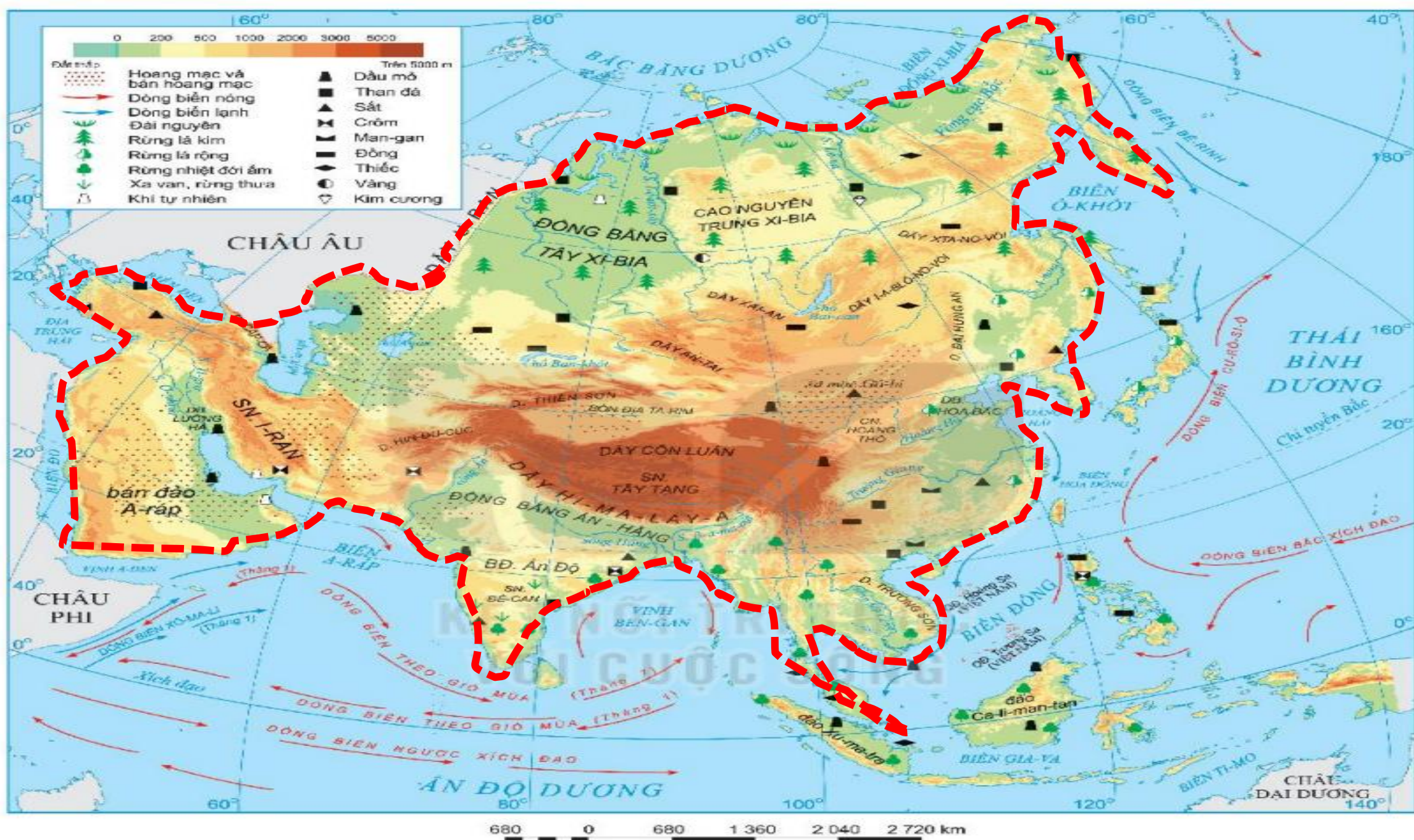
Xuy-ê

Ấn Độ Dương



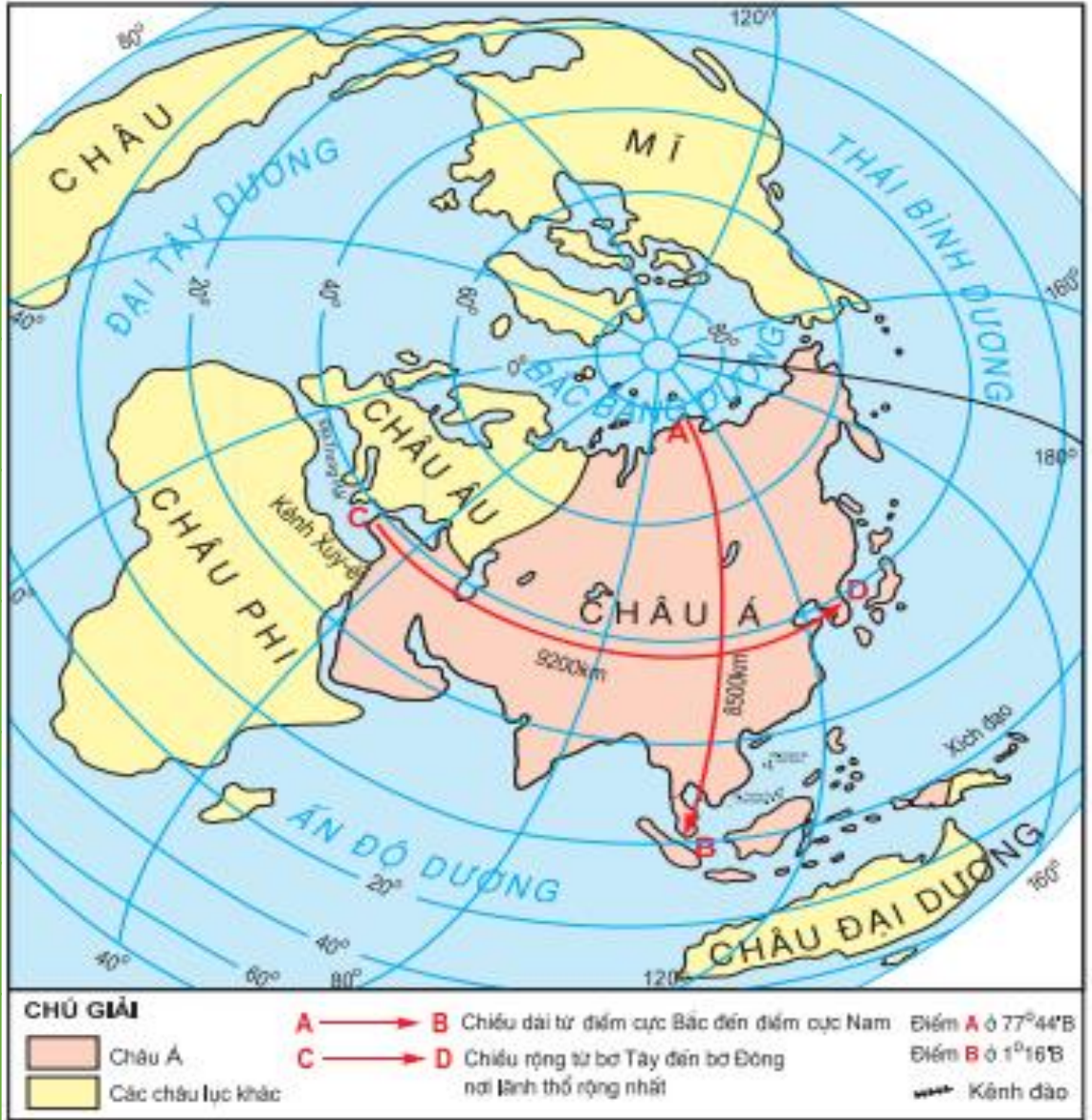
680 0 680 1 360 2 040 2 720 km

Hình 1. Bản đồ tự nhiên châu Á

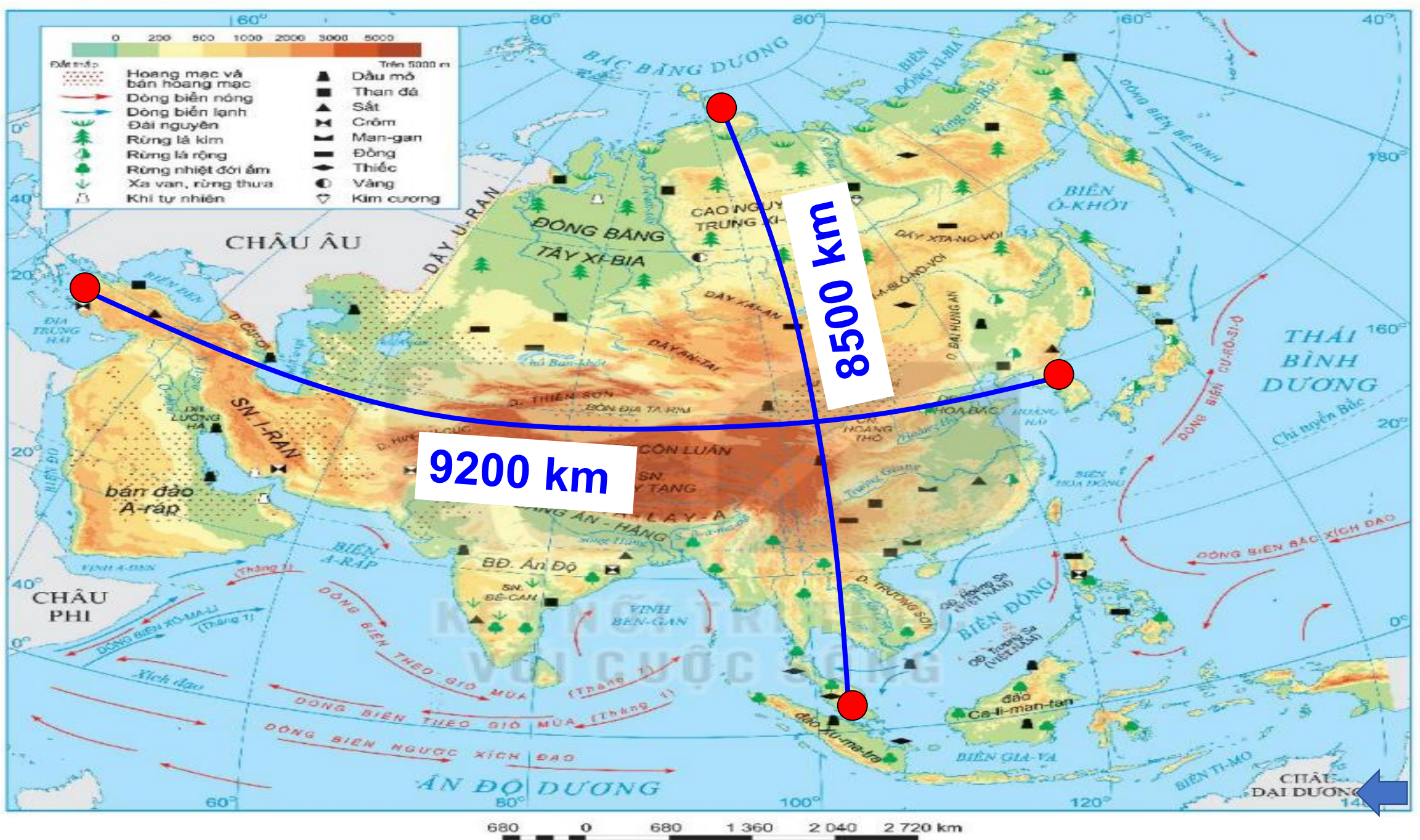


Hình 1. Bản đồ tự nhiên châu Á

Châu lục	Diện tích (triệu km ²)
Châu Mỹ	42
Châu Phi	30,3
Châu Âu	10
Châu Á	44,4
Châu Đại Dương	8,5
Châu Nam Cực	14,1

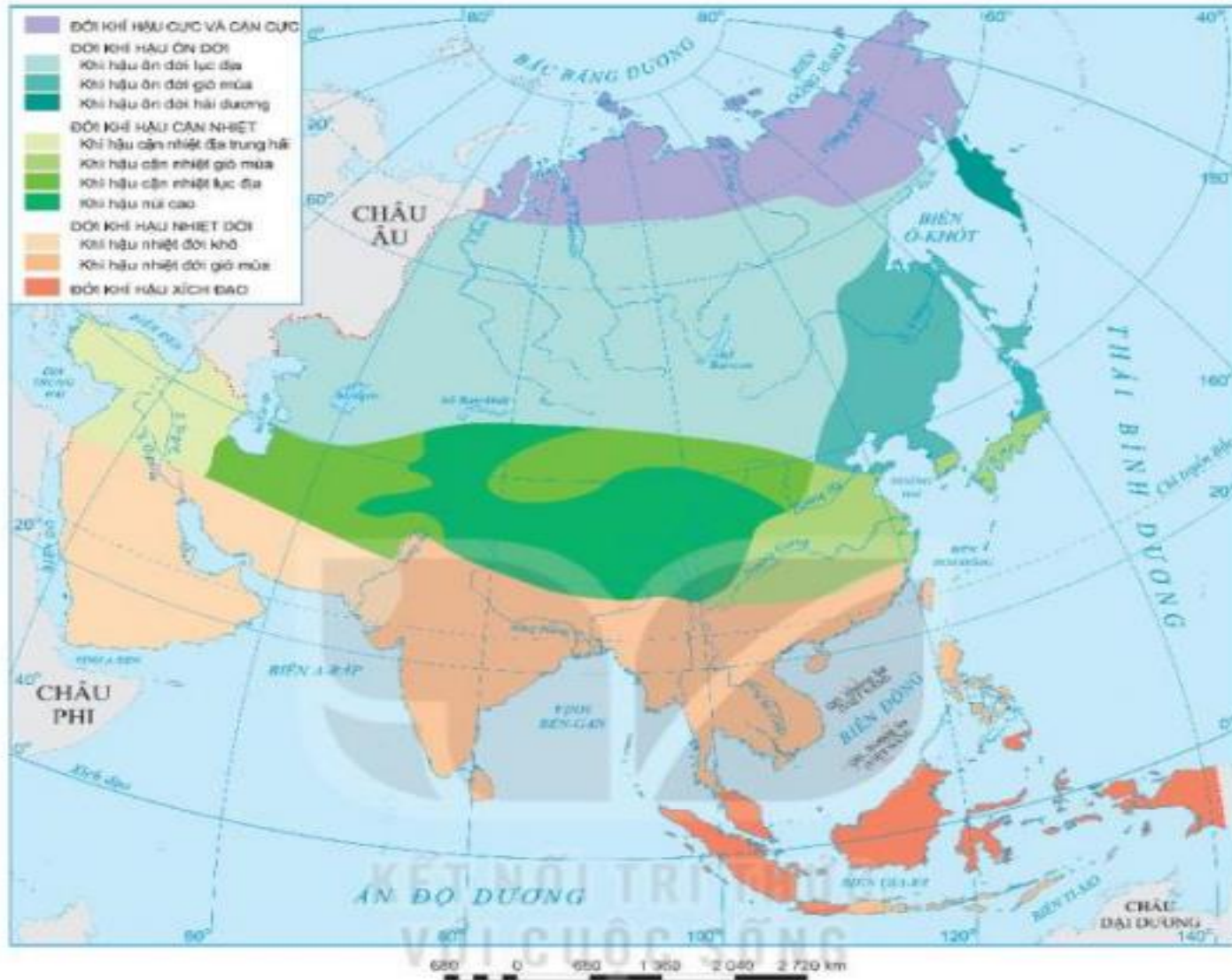


Hình 1.1. Lược đồ vị trí địa lí châu Á trên Địa Cầu



Hình 1. Bản đồ tự nhiên châu Á

c. Khí hậu.

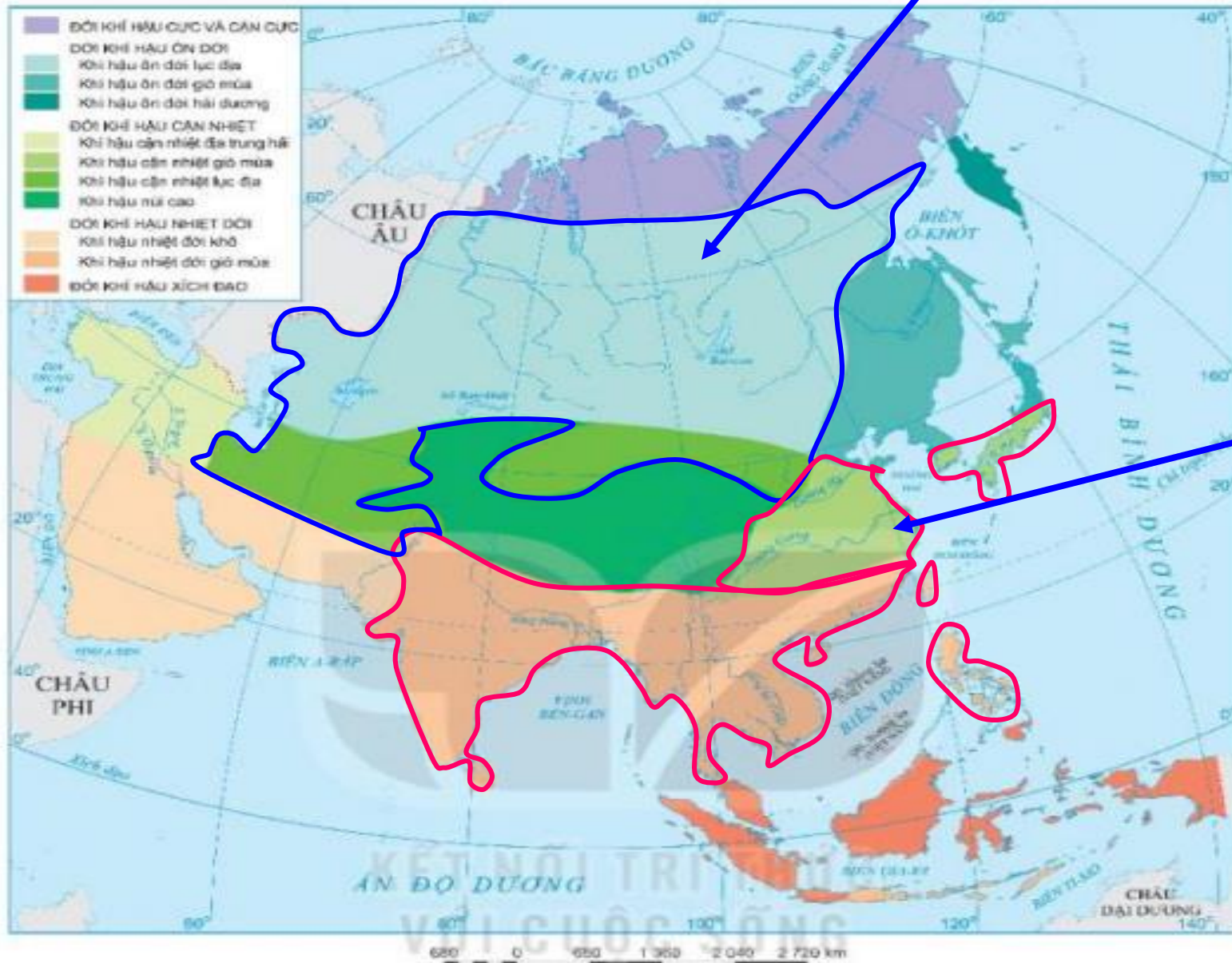


Hình 2. Bản đồ các đới và kiểu khí hậu ở châu Á

Phiếu học tập số 1

- Kể tên các đới và các kiểu khí hậu ở châu Á.
- Kiểu khí hậu nào chiếm diện tích lớn nhất.
- Nhận xét sự phân hóa khí hậu ở châu Á.

Khí hậu lục địa



Khí hậu gió mùa

Hình 2. Bản đồ các đới và kiểu khí hậu ở châu Á



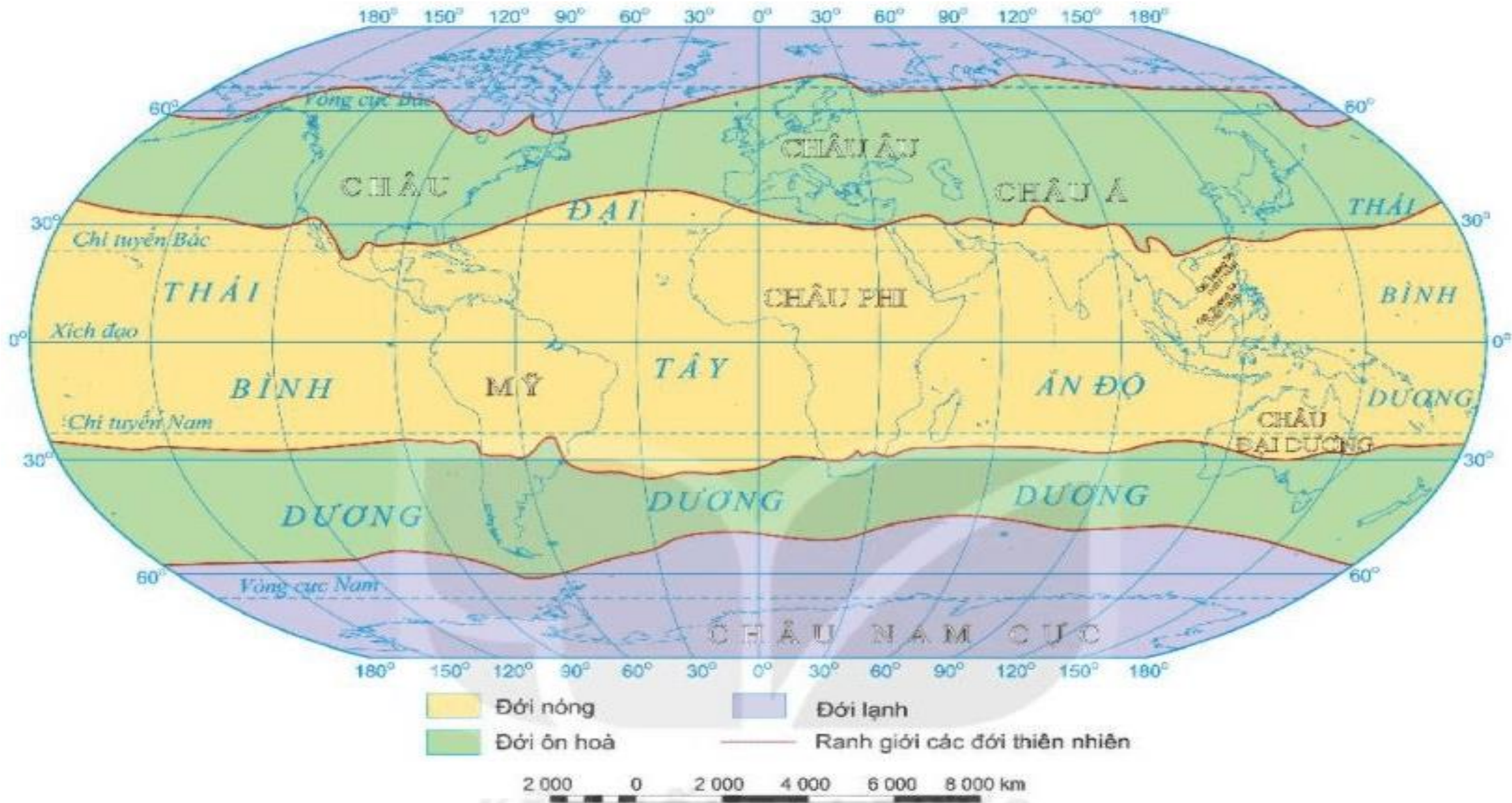
Phiếu học tập số 2

Kiểu khí hậu	Đặc điểm	Phân bố
Khí hậu gió mùa		
Khí hậu lục địa		

Hình 2. Bản đồ các đới và kiểu khí hậu ở châu Á

PHIẾU HỌC TẬP SỐ 2

Kiểu khí hậu	Đặc điểm	Phân bố
Khí hậu gió mùa	<ul style="list-style-type: none">- Mùa đông: gió từ lục địa thổi ra → khô lạnh, ít mưa.- Mùa hạ: gió từ biển thổi vào → nóng, ẩm và mưa nhiều.- Thường xuyên chịu ảnh hưởng của bão.	Đông Á, Đông Nam Á, Nam Á.
Khí hậu lục địa	<ul style="list-style-type: none">- Mùa đông: khô và lạnh.- Mùa hạ: khô và nóng.- Lượng mưa ít khoảng 200-500mm/năm.	Tây Nam Á và vùng nội địa.



Hình 2: Các đới thiên nhiên trên Trái Đất

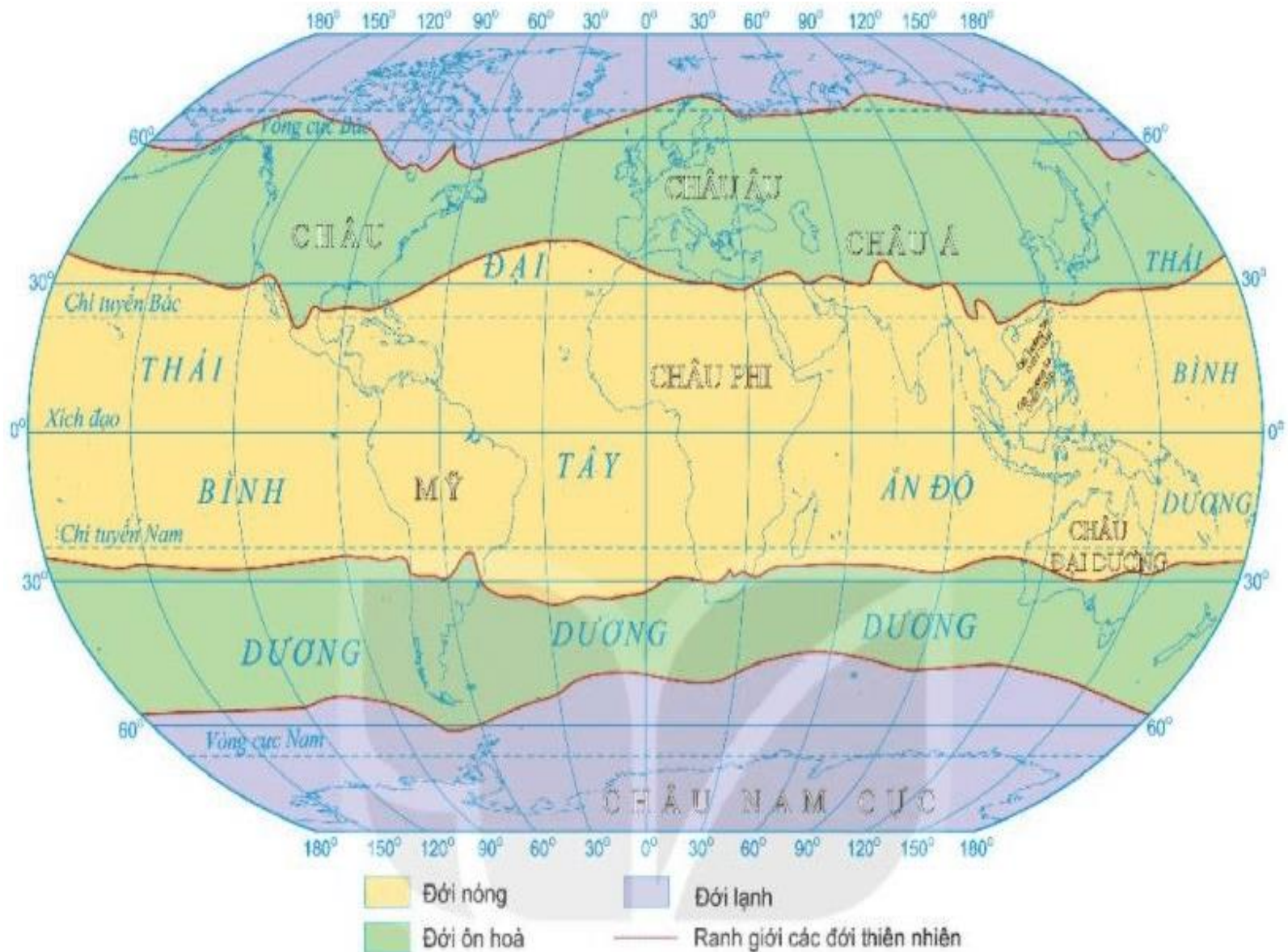
Phiếu học tập số 1

- Đặc điểm của các đới thiên nhiên ở châu Á.

+ Phân bố:

+ Khí hậu:

+ Động thực vật:



Hình 2. Các đới thiên nhiên trên Trái Đất

